

4

ఓట్టు ముద్రిత పుటల సంఖ్య : 12]

Total No. of Printed Pages : 12]

ఓట్టు ప్రశ్నల సంఖ్య : 48]

Total No. of Questions : 48]

సంకేత సంఖ్య : **85-L**

Code No. : **85-L**

C

**CCE PR
REVISED
FULL SYLLABUS
NSR & NSPR**

Question Paper Serial No. **712**

విషయ : **సమాజ విజ్ఞాన**

Subject : SOCIAL SCIENCE

(తెలుగు మాధ్యమ / Telugu Medium)

(పునరావర్తిత ఖాసగి అభ్యర్థి / ఎన్.ఎస్.ఆర్. & ఎన్.ఎస్.పి.ఆర్.)

(Private Repeater / NSR & NSPR)

దినాంక : 15. 06. 2023]

[Date : 15. 06. 2023

సమయ : బేళగ్గే 10-30 రింద మధ్యాహ్న 1-45 రవరేగే] [Time : 10-30 A.M. to 1-45 P.M.

గరిష్ఠ అంకగళు : 100]

[Max. Marks : 100

విద్యార్థులకు సాధారణ సూచనలు :

1. ఈ ప్రశ్నపత్రిక లక్ష్యాత్మక మరియు విషయాత్మక 48 ప్రశ్నలు కల్గియున్నది.
2. ఈ ప్రశ్నపత్రికను రివర్స్ జాకెట్తో సీల్ చేయడమైనది. పరీక్ష ప్రారంభ సమయం కాగానే ప్రశ్నపత్రిక కుడివైపున చింపి తెరువవలెను. ప్రశ్నపత్రికలోని పుటలన్నియూ సరిగ్గావున్నాయా అని పరీక్షించండి.
3. లక్ష్యాత్మక మరియు విషయాత్మక విధానపు ప్రశ్నలకు ఎదురుగా ఇవ్వబడిన సూచనలను అనుసరించండి.
4. కుడివైపు మార్జిన్లో ఇవ్వబడిన అంకెలు ప్రశ్నలకు కేటాయించబడిన గరిష్ఠ అంకములు / మార్కులను సూచించును.
5. ప్రశ్నపత్రికకు జవాబు రాయుటకు కేటాయించిన గరిష్ఠ సమయాన్ని ప్రశ్నపత్రిక పైభాగంలో సూచించడమైనది. అందులో ప్రశ్నపత్రిక చదవటానికి కేటాయించిన 15 నిమిషాల సమయం కూడా కల్గియున్నది.

CCE-PR/NSR & NSPR-C(712)3060

[Turn over

ఇట్టిద కత్తరిసి

TEAR HERE TO OPEN THE QUESTION PAPER
ప్రశ్నపత్రికేయన్ను తేరియలు ఇట్టి కత్తరిసి

Tear here

- I. ప్రతి అసంపూర్ణ వాక్యం / ప్రశ్నకు నాలుగు ప్రత్యామ్నాయ జవాబులున్నాయి. అందులో ఒక్కటి మాత్రమే సరైన జవాబు. ఆ సరైన జవాబును ఎన్నుకుని జవాబుతో పాటు దాని క్రమ అక్షరంతో పాటు సంపూర్ణ జవాబును రాయండి :

8 × 1 = 8

1. రెండవ ఆంగ్లో-మరాఠ యుద్ధం అంతమొందిన ఒప్పందం



(A) సాల్బాయ్ ఒప్పందం

(B) లాహోర్ ఒప్పందం

(C) బెస్సిన్ ఒప్పందం



(D) మద్రాస్ ఒప్పందం

2. బెంగళూరు-మైసూరు రైలు మార్గాన్ని నిర్మించిన ఘనత వీరికి చెందుతుంది

(A) జయచామరాజ ఒడెయార్

(B) నాల్వడి కృష్ణరాజ ఒడెయార్

(C) పదవ చామరాజేంద్ర ఒడెయార్



(D) రాజ ఒడెయార్

3. ఐక్యరాజ్య సమితి భద్రతా సమితిలో భారతదేశానికి శాశ్వత సభ్యత్వం లభించాలని ప్రతిపాదిస్తున్న దేశం



(A) అమెరికా సంయుక్త రాష్ట్రం

(B) బ్రిటన్

(C) రష్యా

(D) ఫ్రాన్స్



4. కర్ణాటకలో సర్వశిక్షణ అభియాన ద్వారా బాలకార్మిక పిల్లలను పాఠశాలకు పిలుచుకొని నమోదు చేసుకొన్న కార్యక్రమం

(A) బా మరళి శాలెగె

(B) కూలియింద శాలెగె (కూలి నుండి బడికి)

(C) కలి-నలి

(D) నలి-కలి



5. సట్లైట్ నదికి అడ్డంగా నిర్మించిన వివిధోద్దేశ నదీలోయ పథకం ఇది



(A) భాక్రా-నంగల్ పథకం

(B) హిరాకుడ్ పథకం

(C) పంప సాగర

(D) నార్జునసాగర్ పథకం



6. భారతదేశ సిలికాన్ సిటీ

(A) ముంబయి

(B) చెన్నై

(C) ఢిల్లీ



(D) బెంగళూరు

7. ప్రజలు తమసొమ్ము మరియు ఆభరణాలను / విలువైన వస్తువులను సంరక్షించుకోడానికి బ్యాంకులద్వారా పొందే సేవ / సౌలభ్యం



(A) పాదుపుఖాతా

(B) భద్రతా అల్మరాసేవ

(C) నిశ్చిత నిల్వఖాతా



(D) ప్రస్తుత (చాల్తీ) ఖాతా (కరెంటు ఖాతాసేవ)



8. సాధారణంగా అభివృద్ధిచెందుతున్న దేశాలు ప్రవేశపెట్టే బడ్జెట్

(A) స్థిర బడ్జెట్

(B) లోటు బడ్జెట్

(C) సమతుల్య బడ్జెట్



(D) పాదుపు బడ్జెట్ (సేవింగ్స్ బడ్జెట్)

II. కింది ప్రశ్నలకు ఒక్కొక్క వాక్యములో జవాబులు రాయండి :

8 × 1 = 8

9. ఇటలీలో 'జాతీయ ప్యాసిస్ట్ వక్షం' స్థాపకులెవరు ?



10. తీన్మూర్తి భవనం ప్రాముఖ్యత ఏమి ?

11. 'మానవ హక్కుల దినోత్సవం' ఆచరించే రోజు ఏది ?

12. మహాత్మా గాంధీజీ అస్పృశ్యతను ఏమని పిలిచారు ?

13. భారతదేశంలో అత్యల్ప తక్కువ వర్షపాతం నమోదైన ప్రదేశం ఏది ?

14. స్త్రీ భూణ హత్య అనగానేమి ?

15. ప్రత్యక్ష పన్ను అనగానేమి ?



16. జాతీయ పాదుపు పత్రాలను ఏ శాఖ జారీ చేస్తుంది ?

III. కింది ప్రశ్నలకు రెండు నుండి నాలుగు వాక్యములో జవాబులు రాయండి :

18 × 2 = 36

17. యునెస్కో కార్యాలయం ఏది ?



లేదా

పలసపాలనలో ఆర్థికంగా వెనకబడ్డ దేశాల ప్రముఖ లక్షణాలేవి ?

18. సామాజిక స్తరీకరణం దేశం నుండి దేశానికి భిన్నంగా ఉంది. ఎట్లు ?

లేదా



మానలోయ ఆందోళనను ఎందుకు చేపట్టడమైంది ?

19. మూడవ ఆంగ్లో-మరాఠ యుద్ధం పరిణామాలేవి ?

20. గోవాను పోర్చుగీసువారినుండి ఎలా విముక్తి చేయబడింది ?

21. తేయాకు పంట పండించడానికి పూరకాంశాలేవి ?

22. సంపర్కం యొక్క ప్రాముఖ్యతలేవి ?



23. వ్యవస్థాపకత అనునది సృజనాత్మక కార్యచరణమైంది. ఎట్లు ?

24. పంచవార్షిక ప్రణాళిక ఉద్దేశాలేవి ?

25. వారన్ హేస్టింగ్స్ అమలులోకి తెచ్చిన న్యాయాలయాలను పేర్కొనండి.



26. భారతదేశం స్వాతంత్ర్యంపొందిన సమయంలో ఎదుర్కొన్న సమస్యలేవి ?

27. భారత స్వాతంత్ర్య పోరాటంలోని ప్రముఖ విప్లవకారులను తెల్పండి.



28. రెండవ ప్రపంచ యుద్ధం తరువాత ప్రపంచం ఎదుర్కొన్న సమస్యలేవి ?

29. ఆహారం మరియు వ్యవసాయ సంస్థ యొక్క ఉద్దేశాలేవి ?

30. పరిసర సంరక్షణ కోసం భారతదేశంలో జరిగిన ఉద్యమాలను పేర్కొనండి.

31. భారతదేశంలోని నాలుగు ఋతువులు ఏవి ?



32. సాంప్రదాయిక శక్తి వనరులను పేర్కొనండి.

33. ఏవైన రెండు వసతి పథకాలను పేర్కొనండి.

34. వినియోగదారుల న్యాయాలయాల మూడు దశలను (వేదికలను) తెల్పండి.

IV. కింది ప్రశ్నలకు ఆరు వాక్యములో జవాబులు రాయండి :

9 × 3 = 27

35. ప్లాస్టిక్ యుద్ధానికి కారణాలు మరియు పరిణామలను తెల్పండి.



లేదా

సైన్య సహకార పద్ధతికి లోబడిన రాజ్యాలు అనుసరించాల్సిన నిబంధనలేవి ?

36. హిమాలయ పర్వతాలు భారతీయులకు చాలా ఉపయోగకరమైనవి. ఎట్లు ?

లేదా



ఇటీవల కాలంలో మట్టికోతను మనము ఎట్లు అరికట్టుతున్నాము ?

37. గ్రామీణాభివృద్ధిలో పంచయత్ రాజ్ సంస్థల పాత్రను తెల్పండి.



లేదా

సర్వజనద్రవ్యం ప్రాముఖ్యతను సంక్షిప్తంగా వివరించండి.

38. బ్యాంకుంలో ఖాతాలను తెరవడానికి అనుసరించాల్సిన దశలేవి ?


లేదా

వినియోగదారుల సంరక్షణ చట్టం యొక్క ఉద్దేశాలేవి ?



39. ప్రార్థనా సమాజం ప్రతిపాదించిన సంస్కరణలను వివరించండి.

40. భారతదేశ ప్రథమ స్వాతంత్ర్య సంగ్రామం విఫలమవడానికి గల కారణాలను తెల్పండి.

41. భారతదేశం మరియు అమెరికా సంయుక్త సంస్థానాల మధ్యగల సంబంధాన్ని వివరించండి. 
42. అత్యంత ఎక్కువ జనాభాగల భారతదేశంలో నిరుద్యోగ సమస్యను ఎలా పరిష్కరించవచ్చు ?
43. తుఫానులను ఎదుర్కొనడానికి ముందు జాగ్రత చర్యలేవి ?


V. కింది ప్రశ్నలకు ఎనిమిది వాక్యములో జవాబులు రాయండి : 4 × 4 = 16

44. బ్రిటీషు విద్య భారతీయులపై ప్రముఖ పరిణామాలు ఏర్పడినవి. సమర్థించండి.



లేదా

“మైసూరు సంస్థానాభివృద్ధికి నాల్వడి కృష్ణరాజ ఒడెయర్ గారి సేవలు అపారం.”
సమర్థించండి.

45. “డా॥ బి.ఆర్. అంబేడ్కర్ గారు ఒక శ్రేష్ఠమైన సామాజిక సంస్కర్త” సమర్థించండి.
46. భారతదేశంలో అక్షరాస్యతను పెంచడానికి ప్రభుత్వం చేపట్టిన చర్యలేవి ?
47. భారతదేశంలో అరణ్యాల సంరక్షణకై తీసుకున్న చర్యలేవి ? 

VI. 48. భారతదేశ పటమును గీచి, దానిలో కింది వాటిని గుర్తించండి :

1 + 4 = 5



a) దామోదర నదీలోయ



b) భద్రావతి


c) కాండ్లా

d) బెంగళూరు

అంధ విద్యార్థులకు మాత్రం ఈ వ్యాయ ప్రశ్న : (ప్రశ్న సంఖ్య 48 కు బదులుగా)

వివిధోద్దేశ నదీలోయ పథకాల ప్రముఖ ఉద్దేశాలేమిటి తెల్పండి.

5



85-L

12

CCE-PR/NSR & NSPR

CCE-PR/NSR & NSPR-C(712)3060

4