

ఒట్టు ముద్రిత పుటగళ సంఖ్యే : 8]

Total No. of Printed Pages : 8]

ఒట్టు ప్రశ్నెగళ సంఖ్యే : 38]

Total No. of Questions : 38]

సంకేత సంఖ్యే : **85-L**

Code No. : **85-L**

A

**CCE RF
CCE RR
REVISED**

Question Paper Serial No. **21**

ఇట్లొద కత్తరిసి

విషయ : సమాజ విజ్ఞాన

Subject : SOCIAL SCIENCE

(తేలుగు భాషాంతర / Telugu Version)

(ఁదొస పఠ్యక్రమ / New Syllabus)

(శాలా అభ్యర్థి & పునరావర్తిత శాలా అభ్యర్థి / Regular Fresh & Regular Repeater)

దినాంక : 09. 04. 2020]

[Date : 09. 04. 2020

సమయ : బేళగ్గే 9-30 రింద మధ్యాఱ్ఱ 12-45 రవరేగే]

[Time : 9-30 A.M. to 12-45 P.M.

గరిష్ఠ అంకగళు : 80]

[Max. Marks : 80

విద్యార్థులకు సాధారణ సూచనలు :

1. ఈ ప్రశ్నపత్రిక 38 అక్ష్యాత్మక మరియు విషయాత్మక ప్రశ్నలు కల్లియున్నది.
2. ఈ ప్రశ్నపత్రికను రివర్స్ జాకెట్ సీల్ చేయడమెనది. పరీక్ష ప్రారంభ సమయం కాగానే ప్రశ్నపత్రిక కుడివెపున చింపి తెరువవలెను. ప్రశ్నపత్రికలోని పుటలన్నియు సరిగ్గావున్నాయా అని పరీక్షించండి.
3. అక్ష్యాత్మక మరియు విషయాత్మక విధానపు ప్రశ్నలకు ఎదురుగా ఇవ్వబడిన సూచనలను అనుసరించండి.
4. కుడివెపు మార్జిన్ లో ఇవ్వబడిన అంకెలు ప్రశ్నలకు కేటాయించబడిన గరిష్ఠ అంకములు / మార్కులను సూచించును.
5. ప్రశ్నపత్రికకు జవాబు రాయుటకు కేటాయించిన గరిష్ఠ సమయాన్ని ప్రశ్నపత్రిక పెభాగంలో సూచించడమెనది. అందులో ప్రశ్నపత్రిక చదవటానికి కేటాయించిన 15 నిమిషాల సమయం కూడా కల్లియున్నది.

- I. ప్రతి అసంపూర్ణ వాక్యం / ప్రశ్నకు నాలుగు ప్రత్యామ్నాయ జవాబులున్నాయి. అందులో ఒక్కటి మాత్రమే సరైన జవాబు. ఆ సరైన జవాబును ఎన్నుకొని, క్రమాక్షరంతో సంపూర్ణ జవాబును రాయండి :

8 × 1 = 8

1. 1453 లో కాన్స్టాంటినోపల్ నగరాన్ని వశపరచుకున్నారు



(A) అరబ్బులు



(B) ఆటోమన్ టర్కులు

(C) ఇటలీలు

(D) పోర్చుగీసులు



2. క్వీట్ ఇండియా ఉద్యమం కాంగ్రెస్సేతర నాయకులకు నాయకత్వం ఇచ్చింది. ఈ కింది వారిలో కాంగ్రెస్సేతర నాయకులను గుర్తించండి



(A) కస్తూర్బా గాంధీ

(B) బి.ఆర్. అంబేడ్కర్



(C) జయప్రకాష్ నారాయణ్

(D) మౌలానా అబ్దుల్ కలాం ఆజాద్



3. పంచశీల సూత్రాలకు చెనా ప్రధాని చౌ.ఎన్. లాయ్ జతలో ఒప్పందానికి సంతకం చేసిన భారత దేశ ప్రధాని



(A) జవహర్ లాల్ నెహ్రూ

(B) లాల్ బహద్దూర్ శాస్త్రి

(C) ఇందిరా గాంధీ



(D) అటల్ బిహారీ వాజపేయి

4. బాలికల సబలీకరణకు 'బాలికా సంఘం'ను స్థాపించి నిర్వహించువారు



(A) పిల్లల హక్కుల రక్షణ సమితి

(B) పిల్లల గ్రామసభ



(C) పిల్లల సురక్షతా సమితి

(D) అంగనవాడి



5. కార్గిల్ సమీపంలోని డ్రాస్ లో చాలా తక్కువ ఉష్ణోగ్రత నమోదు అవుతుంది ఎందుకంటే ఇది



(A) సూర్యుని నిటారు కిరణాలు పడుతాయి

(B) సముద్రానికి దగ్గరలోవుంది



(C) చాలా ఎత్తు ప్రదేశంలో వుంది

(D) నెరుతి ఋతు పవనాల ప్రభావానికి లోనైంది



6. మన రాజ్యాంగంలోని 21 వ విధ తెలియ జేయునది ఏమిటి అంటే

(A) షెడ్యూల్లుకులాలు / తెగలు విద్యా ఆసక్తులకు మద్దతు నిచ్చుట ప్రభుత్వాల బాధ్యత

(B) అల్పసంఖ్యాకులు విద్యాసంస్థలను స్థాపించడానికి విశేష అవకాశాలనిస్తుంది



(C) సామాజిక న్యాయం మరియు ప్రజల సంక్షేమం గురించి అవకాశాలను ఒదిగించడం రాషో ప్రభుత్వల కర్తవ్యం



(D) విద్య పిల్లల ప్రాథమిక హక్కు అని చాటి చెప్పింది



7. ఈ కింది వాటిలో ప్రభుత్వ పన్నులేతర ఆదాయం అయివుంటుంది

(A) సరుకులు మరియు సేవా పన్నులు (GST)



(B) వివిధ రకాల జరిమానాలు

(C) దిగుమతి - ఎగుమతి సుంకాలు

(D) స్టాంపు పన్నులు



8. “తెలుపు విప్లవ పితామహుడు” అని పేరుగాంచిన పారిశ్రామిక వేత్త

(A) డా. ప్రతాప్ రెడ్డి



(B) సరోష్ గోయల్

(C) వర్గీస్ కురియన్



(D) కిరణ్ ముజుందార్ షా

II. కింది ప్రశ్నలకు ఒక్కొక్క వాక్యంతో జవాబు రాయండి :

8 × 1 = 8

9. బెంగాల్ లో ద్వి-ప్రభుత్వ పద్ధతిని అమల్లోకి తెచ్చినవారు ఎవరు ?



10. రాజా రామ్ మోహన్ రాయ్ సతీసహగమన పద్ధతి వ్యతిరేక పోరాటానికి గవర్నర్ జనరల్ విలియం బెంటింక్ ఎట్లు మద్దతునిచ్చాడు ?



11. మానవ హక్కుల దినంను ఎప్పుడు ఆచరిస్తారు ?

12. ఆడభూణ హత్య అనగానేమి ?



13. ఉష్ణమండల ఆకురాల్చు అడవులను “మాస్సూన్ అడవులు” అని పిలుస్తారు. ఎందుకు ?

14. జనసాంద్రత అనగానేమి ?




15. పస్తా వినిమయ పద్ధతి అనగానేమి ?

16. ప్రపంచ వినియోగదారుల ఉద్యమ చరిత్రలో మార్చి 15, 1962 ఎందుకు ఒక మహత్తర రోజైంది ?




III. కింది ప్రశ్నలకు నాలుగు వాక్యాలలో జవాబు రాయండి :


8 × 2 = 16

17. భారతీయ రాజ్యాలను నియంత్రించుటలో బ్రిటిష్లకు సెన్య సహకార పద్ధతి ఎట్లు సహాయమెయింది. 

18. 1961 లో గోవా పోర్చుగీసువారి నుండి ఎలా విముక్తి చేయబడింది.

19. భారతదేశ విదేశాంగ నీతి ఉద్దేశాలేవి ? 


లేదా


విశ్వసంస్థ భద్రతా సమితి కార్యాలను వివరించండి. 

20. “సామాజిక స్తర వ్యవస్థ వివిధ రూపాలలో వుంది.” ఎట్లు ?


లేదా

1970 వ దశకంలో డి. దేవరాజ అరసు కర్నాటకలో సామాజిక పరివర్తనను ఏరీతిలో తెచ్చారు ?

21. పశ్చిమ కనువులు మరియు తూర్పు కనుమలను భేదపరచండి. 

22. మట్టి కోతకు కారణాలేవి ? 

23. స్వయం సహాయక సంఘాలు మహిళల హోదా మరియు స్వయంశక్తిని పెంచినవి. ఎట్లు ?

24. “ప్రపంచీకరణం వలన వినియోగదారులకు అనుకూలమెయింది” విశ్లేషించండి. 


IV. ఈ కింది ప్రశ్నలకు ఆరు వాక్యాలలో జవాబు రాయండి :

9 × 3 = 27

25. ఆంగ్ల విద్య ప్రభావం నుండి ఏర్పడిన అభిరుచి మరియు ఆలోచనలు భారతదేశంలో క్రొత్త తరాల సృష్టికి ఎట్లు కారణమైనవి ? 

26. హలగళి బేడల తిరుగుబాటును వివరించండి.

లేదా

ఆర్యసమాజం ఉద్దేశాలను వివరించండి. 

27. “రెండవ ప్రపంచ యుద్ధం అత్యంత అనాగరికమైనది.” ఎట్లు ?



28. భారతదేశ ఆంతరిక సమస్య అయిన మతవాదంను నివారించడానికి మీసలహాలేవి ?

29. సంఘటిత రంగ మరియు అసంఘటిత రంగ కార్మికులను భేదపరచండి.

30. రవాణా మరియు సంస్కార ప్రాముఖ్యత ఏమి ?



లేదా

పరిశ్రమల స్థానికీకరణాన్ని నిర్ణయించు అంశాలను తెల్పండి.

31. భూకంపాల ముందు జాగ్రత్తా విధానాలను పట్టిచేయండి.



32. భారత దేశంలో అమల్లోవున్న పంచాయతి రాజ్ వ్యవస్థ ప్రముఖ లక్షణాలేవి ?

లేదా

భారతీయ రిజర్వ్ బ్యాంక్ కార్యాలేవి ?



33. తపాలా కార్యాలయాలు ఒదిగిస్తున్న ఆర్థిక సేవలను తెల్పండి.

లేదా

పారిశ్రామిక వేత్తల ముఖ్యకార్యాలను పట్టి చేయండి.



V. ఈ కింది ప్రశ్నలకు ఎనిమిది నుండి పది వాక్యాలలో జవాబు రాయండి :

4 × 4 = 16

34. 1857 వ ప్రథమ స్వాతంత్ర్య సంగ్రామం విఫలం కావడానికి కారణాలను వివరించండి.

35. డా. బి.ఆర్. అంబేడ్కర్ గారి సామాజిక సమానత్వంను గురించి ఉదాహరణలిచ్చి స్పష్టీకరించండి.



లేదా

“అతివాదులు భారతదేశ స్వాతంత్ర్య పోరాటానికి మరింత తీవ్రతను తెచ్చిపెట్టారు.” ఎట్లు ?

36. సింధూ నాగరికత నుండి ప్రారంభించి ఇప్పటి వరకు భారతదేశ మరియు చెనా దేశాల సంబంధాన్ని వివరించండి.



37. మన దేశ ఆర్థికాభివృద్ధిలో వ్యవసాయం ప్రాముఖ్యత ఏమి ?



VI. 38. భారతదేశ పటమును గీచి, దానిలో కింది వాటిని గుర్తించండి :

1 + 4 = 5



a) $23\frac{1}{2}^{\circ}$ ఉత్తర అక్షాంశం



b) గోవింద సాగరం

c) ముంబై హె



d) తుతుకుడి

అంధ విద్యార్థులకు మాత్రం ఈ పర్యాయ ప్రశ్న : (ప్రశ్న సంఖ్య 38 కు బదులుగా)

వివిధోద్దేశ సదీలోయల పథకాల ప్రముఖ ఉద్దేశాలను తెల్పండి.



5

