

یہاں سے کاٹئے

Question Paper Serial No. 61

B

**CCE RR
UNREVISED**

ಒಟ್ಟು ಮುದ್ರಿತ ಪುಟಗಳ ಸಂಖ್ಯೆ: 12]

Total No. of Printed Pages : 12]

ಒಟ್ಟು ಪ್ರಶ್ನೆಗಳ ಸಂಖ್ಯೆ: 42]

Total No. of Questions : 42]

ಸಂಕೇತ ಸಂಖ್ಯೆ : **83-U**

Code No. : **83-U**

**ವಿಷಯ : ವಿಜ್ಞಾನ
Subject : SCIENCE**

(ಭೌತಶಾಸ್ತ್ರ, ರಸಾಯನಶಾಸ್ತ್ರ ಮತ್ತು ಜೀವಶಾಸ್ತ್ರ / Physics, Chemistry & Biology)

(ಉರ್ದು ಭಾಷಾಂತರ / Urdu Version)

(ಹಳಿ ಪಠ್ಯಕ್ರಮ / Old Syllabus)

(ಪುನರಾವರ್ತಿತ ಶಾಲಾ ಅಭ್ಯರ್ಥಿ / Regular Repeater)

ದಿನಾಂಕ : 30. 03. 2020]

[Date : 30. 03. 2020

ಸಮಯ : ಬೆಳಿಗ್ಗೆ 9-30 ರಿಂದ ಮಧ್ಯಾಹ್ನ 12-45 ರವರೆಗೆ] [Time : 9-30 A.M. to 12-45 P.M.

ಗರಿಷ್ಠ ಅಂಕಗಳು: 80]

[Max. Marks : 80

عام ہدایات :

1. سوالنامہ معروضی (Objective) اور موضوعی (Subjective) قسم کے سوالوں پر مشتمل ہے جس میں 42 سوالات ہیں۔

2. اس سوالنامہ کو سر بہرہ کر دیا گیا ہے۔ امتحان شروع ہونے کے وقت آپ کو پرچہ پڑھنے کے لئے اسے بائیں طرف سے کاٹنا ہوگا۔ اچھی طرح دیکھ لیں کہ سوالنامہ کے سبھی صفحات ٹھیک ٹھاک ہیں۔

3. معروضی اور موضوعی دونوں قسم کے سوالوں کے لئے دی گئی ہدایات کے مطابق جواب لکھیں۔

4. سوالات کے لئے بائیں ہاتھ کی جانب حاشیے میں مکمل مارکس دئے گئے ہیں۔

5. جواب دینے کا زیادہ سے زیادہ وقت سوالنامہ کے اوپر دیا گیا ہے۔ اس میں سوالنامہ پڑھنے کے لئے 15 منٹ شامل ہیں۔

TEAR HERE TO OPEN THE QUESTION PAPER
اس مقام سے کاٹ کر سوال پرچہ کھولئے

Tear here

Turn over]



RR (B) - 440

61

مندرجہ ذیل سوالات / نامکمل بیانات میں سے ہر ایک کے لیے چار متبادل دیے گئے ہیں۔ ان میں سے صرف ایک صحیح یا مناسب

$$10 \times 1 = 10$$

ترین ہے۔ صحیح متبادل چنیں اور حرف تہجی کے ساتھ مکمل جواب اپنے جوابی بیاض میں لکھیں۔



1. گنے کے رس کی تبخیر کے وقت دباؤ کو کم کرنے کی وجہ

(A) گنے کے رس کا نقطہ جوش بڑھانے



(B) شکر کو بے رنگ کرنے

(C) گنے کے رس کا نقطہ جوش کم کرنے



(D) قلموں کا سائز بڑھانے

2. پیارا تھارامون کا فعل



(A) خون میں گلوکوز کی مقدار کو قابو رکھنے

(B) خون اور ہڈیوں میں کیلشیم کی مقدار کو قابو رکھنے



(C) دل کی دھڑکن اور تنفس کو قابو رکھنے

(D) بڑھوتری اور جسمانی نشوونما پر قابو رکھنے

3. ایک کشتی سے بالاسمعی آواز کی اشاعت کی گئی۔ یہ آواز سمندر کی تہہ سے ٹکرا کر 6s میں محسوس کی گئی۔ اگر بالاسمعی آواز کی رفتار



سمندری پانی میں 1.5 kms^{-1} ہے تو سمندر کی گہرائی معلوم کیجئے۔

5.5 km (B)



5 km (A)

4.5 km (D)

3.5 km (C)



4. سوڈیم کلورائیڈ حالت میں ایک طاقت ور الیکٹرو لائٹ/برق پاشدہ ہے



(A) مکمل تحلیل پذیر ہوتا ہے

(B) یہ ہم گرفت بندھن والا مرکب ہے

(C) تحلیل نہیں ہوتا

(D) مکمل تحلیل نہیں ہوتا



5. متبادل برقی رو کو راست برقی رو میں تبدیل کرنے والا آلہ



(A) ٹرانزسٹر

(B) ڈیوڈ



(C) ڈائموڈ

(D) موٹر



6. راکٹ کے نظام عمل کے مساوات $RV_{ex} = Ma$ میں R



(A) مزاحمت

(B) اسراع

(C) ایندھن کے استعمال کی شرح



(D) کمیت

Turn over]



RR (B) - 440

7. تجربہ گاہ میں مشابہ سالمے، خلیے، نیچ یا جاندار کو بنانے کی ٹکنالوجی



(A) کلوننگ

(B) DNA فنکٹر پر ٹنگ



(C) جینیاتی انجینیرنگ

(D) ری کمبائنیٹ DNA ٹکنالوجی



8. حیاتی ایندھن ماحول دوست ہے کیونکہ

(A) فضائی درجہ حرارت میں اضافہ کرتا ہے

(B) کم مقدار میں کاربن ڈائی آکسائیڈ بناتا ہے



(C) یہ فوئل ایندھن ہے

(D) یہ ایک روایتی توانائی کا ذریعہ ہے



9. حسب ذیل ہائیڈرو کاربنس میں ہائیڈروجن پذیر پانے والا ہائیڈرو کاربن



(A) CH₄



(B) C₂H₆



(C) C₂H₂



(D) C₃H₈





10. پودے میں سے فلوئو نمٹیج کو نکال دیا جائے تو ہونے والا اثر



(A) غذا کی سربراہی نہیں ہوتی

(B) پانی کی سربراہی نہیں ہوتی



(C) کٹافوتوں کا اخراج نہیں ہوتا

(D) معدنیات کی سربراہی نہیں ہوتی



11. فہرست A میں دیئے گئے نامیاتی مرکبات کو فہرست B میں دیئے گئے ضابطوں سے جوڑ کر حروف تہجی کے ساتھ جوابی بیاض

4 × 1 = 4



میں لکھئے :

فہرست B

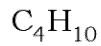
فہرست A



(i)



(A) پروپین (Propane)



(ii)

(B) بیوٹین (Butene)



(iii)

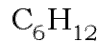
(C) سائیکلو ہیکسین (Cyclohexane)



(iv)



(D) پروپائن (Propyne)



(v)



(vi)



(vii)

Turn over]







RR (B) - 440



$$7 \times 1 = 7$$



حسب ذیل سوالوں کے جواب لکھئے :

12. شمسی خانہ/سیل کیا ہے ؟ 
13. بندھشی خاصیت کیا ہے ؟ 
14. رباط (Ligament) کس طرح ہڈیوں کی حرکت میں مدد دیتا ہے ؟
15. مہدل کا علامتی اظہار بنائیے۔ 
16. نیوکلیائی انشقاق کیا ہے ؟
17. سبز ماحولی اثر فضا میں پیدا کرنے والی گیس کے نام بتائیے۔
18. سفید صغیر خاص خصوصیات بیان کیجئے۔ 
- حسب ذیل سوالوں کے جواب لکھئے :



$$16 \times 2 = 32$$

19. ہم دوسرے پرائیمرس تعلق رکھنے والا خصوصیات کی فہرست بنائیے۔ 
20. ایک بس کا کلچر گیر 33 Hz تعدد کی موجیں پیدا کرتا ہے۔ اگر موجوں کی رفتار 330ms^{-1} تو موجوں کا طول موج معلوم کیجئے۔ 
21. قلمی سیلیکان کی تحصیل کا طریقہ سمجھائیے۔ اس تعامل کا متوازن مساوات لکھئے۔

یا



حسب ذیل کیمیائی تعاملات کے لئے متوازن مساوات لکھئے :

- (a) غیر قلمی سیلیکان کا بھاپ کے ساتھ تعامل 
- (b) غیر قلمی سیلیکان کا آکسیجن کے ساتھ عمل 





22. جدید دور میں میوٹینٹس پودوں کے بجائے جنسی ترمیم کاری پودوں کا استعمال زیادہ ہو رہا ہے۔ وجوہات کا تجزیہ کیجئے۔



23. نیوکلیائی بھٹی (پاور پلانٹ) میں حسب ذیل کے افعال بتائیے :



(i) ناظم سلاخیں

(ii) اعتدال ساز



یا



24. کیمیائی تعامل اور نیوکلیائی تعامل کے درمیان فرق لکھئے۔



25. برق پاشیدگی کے آلات کی شکل بنا کر مشیرہ (Anode) کی نشاندہی کیجئے۔

26. پرندوں میں اڑنے کے لیے پائے جانے والے کوئی چار ترمیمیات لکھئے۔

یا



27. تغلیب کیا ہے ؟ دو حیوانات کی مثال دیجئے جن میں تغلیب عمل میں آتی ہے۔

28. سرکٹ میں پائے جانے والی npn ٹرانزسٹر کی علامت بنائیے اور زیادہ ڈوپ والے حصہ کی نشاندہی کیجئے۔



29. تخمیر کیا ہے ؟ شکر کے شیرہ (Molasses) کی تخمیر کے تین مرحلے لکھئے۔

یا



30. سکروز کے خاص ذرائع کیا ہیں ؟ سکروز میں پائے جانے والے مونوسکرائڈس کے نام بتائیے۔

Turn over]



RR (B) - 440



28. دھاری دار عضلات اور غیر دھاری دار عضلات کے درمیان دو فرق لکھئے۔

یا



تقسیمی نسیج کے خواص بیان کیجئے۔



29. ایک منزلہ راکٹ کی شکل اتار کر افادی سامان کی نشاندہی کیجئے۔

30. 4l گیس کو ایک برتن میں 4×10^5 Pa دباؤ میں رکھا گیا تھا اس کو مستقل درجہ حرارت پر 8l میں پھیلا یا گیا۔ آخری دباؤ کیا



ہوگا معلوم کیجئے۔



31. پتوں پر بھورے دھبے اور ترنخ دیکھی گئی کچھ علاقوں میں بارش کے بعد۔ اس تبدیلی کا تجزیہ کیجئے۔



32. الویٹا سے المونیم کی تحصیل میں استعمال ہونے والے آلات کی شکل بنائیے۔ پگھلے ہوئے المونیم کی نشاندہی کیجئے۔

33. ایک نجومی A اور B روشنی کے سمجھ کا مشاہدہ کرتا ہے۔ وہ A میں سرخ منتقلی اور B میں نیلی منتقلی محسوب کرتا ہے۔ اس کی وجہ کیا



ہوگی؟ تجزیہ کیجئے۔



34. محفوظ شیشہ تیار کرنے کا طریقہ سمجھائیے۔ اس کی خاص خاصیت بیان کیجئے۔



$$5 \times 3 = 15$$

حسب ذیل سوالات کے جواب لکھئے :



35. آم اور گنے کے پودوں کے درمیان حسب ذیل کی تعلق سے فرق لکھئے :

(a) پتہ



(b) بیج کا اچھنا



(c) جڑ کی بناوٹ

36. (a) اگر 250 V متبادل برق کو 10 V میں تبدیل کرنا ہو تو ابتدائی اور ثانوی لچھوں میں چکروں کی تعداد کی نسبت



کیا ہوگی ؟



(b) مبدل کے ثانوی لچھے میں امالی برق کا انحصار کن امور پر ہوتا ہے ؟

یا



فراڈے کا امالی برقی رو کا تجربہ سمجھائیے۔

37. HIV کی ساخت ظاہر کرنے والی شکل بنائیے اور ان کی نشاندہی کیجئے :



(a) ریوس ٹرانس کرپیٹ یز خامرہ



(b) چر بدارتہہ

Turn over]



RR (B) - 440

38. حسب ذیل جدول کا مشاہدہ کیجئے :



عناصر	A	B	C	D
جوہری عدد	12	2	16	20



عناصر کی نشاندہی کیجئے :



(a) شاہی گیس کونسی ہے ؟

(b) بڑے جوہری جسامت رکھنے والا عنصر



(c) زیادہ ایانی توانائی والا عنصر اپنے جواب کے لئے موزوں وجہ بتائیے۔

39. گول بیج رکھنے والے غالب مٹر کے پودے اور جھری دار بیج رکھنے والے مغلوب مٹر کے پودے کے درمیان پارزیریگی کرائی گئی۔



چکر بورڈ کے ذریعہ F_2 نسل میں حاصل ہونے والے پودوں کا نتیجہ بنائیے۔ Genotypic نسبت لکھئے۔

یا



بیونگنا لوجی کے اصلاق بتائیے۔

$$3 \times 4 = 12$$

حسب ذیل سوالات کے جواب لکھئے :



40. (a) ڈیزل انجن اور پیٹرول انجن کے درمیان کوئی تین فرق لکھئے۔



(b) ”ایک انجن کی استعداد 40% ہے۔“ اس کہات کا مطلب کیا ہوگا۔

یا



پیٹرول انجن کا پھیلاؤ مرحلہ اور اخراج مرحلہ سمجھائیے۔



RR (B) - 440



(a) .41 دھاتوں کی طبعی خصوصیات کی فہرست بنائیے۔

(b) بھرت کیا ہے؟ اسٹینلس اسٹیل کے دو استعمال لکھئے۔



.42 انسانی کان کے اندرونی حصوں کی شکل بنائیے اور ان کی نشاندہی کیجئے:



(i) کان کا پردہ

(ii) سمعی اعصاب



