

ಒಟ್ಟು ಮುದ್ರಿತ ಪುಟಗಳ ಸಂಖ್ಯೆ : 12]

Total No. of Printed Pages : 12]

ಒಟ್ಟು ಪ್ರಶ್ನೆಗಳ ಸಂಖ್ಯೆ : 38]

Total No. of Questions : 38]

ಸಂಕೇತ ಸಂಖ್ಯೆ : **83-K**

Code No. : **83-K**

A

**CCE RR
REVISED**

Question Paper Serial No. **30**

ಇಲ್ಲಿಂದ ಕತ್ತರಿಸಿ

ವಿಷಯ : ವಿಜ್ಞಾನ

Subject : SCIENCE

(ಭೌತಶಾಸ್ತ್ರ, ರಸಾಯನಶಾಸ್ತ್ರ ಮತ್ತು ಜೀವಶಾಸ್ತ್ರ / Physics, Chemistry & Biology)

(ಕನ್ನಡ ಭಾಷಾಂತರ / Kannada Version)

(ಹೊಸ ಪಠ್ಯಕ್ರಮ / New Syllabus)

(ಪುನರಾವರ್ತಿತ ಶಾಲಾ ಅಭ್ಯರ್ಥಿ / Regular Repeater)

ದಿನಾಂಕ : 28. 09. 2020]

[Date : 28. 09. 2020

ಸಮಯ : ಬೆಳಿಗ್ಗೆ 10-30 ರಿಂದ ಮಧ್ಯಾಹ್ನ 1-45 ರವರೆಗೆ]

[Time : 10-30 A.M. to 1-45 P.M.

ಗರಿಷ್ಠ ಅಂಕಗಳು : 80]

[Max. Marks : 80

ಪರೀಕ್ಷಾರ್ಥಿಗಾಗಿ ಸಾಮಾನ್ಯ ಸೂಚನೆಗಳು :

1. ಈ ಪ್ರಶ್ನೆಪತ್ರಿಕೆಯು 38 ವಸ್ತುನಿಷ್ಠ ಮತ್ತು ವಿಷಯನಿಷ್ಠ ಮಾದರಿಯ ಪ್ರಶ್ನೆಗಳನ್ನು ಹೊಂದಿದೆ.
2. ಈ ಪ್ರಶ್ನೆಪತ್ರಿಕೆಯನ್ನು ಹಿಮ್ಮುಖ ಜಾಕೆಟ್ ಮೂಲಕ ಮೊಹರು (ಸೀಲ್) ಮಾಡಲಾಗಿದೆ. ಪರೀಕ್ಷೆ ಪ್ರಾರಂಭವಾಗುವ ಸಮಯಕ್ಕೆ ನಿಮ್ಮ ಪ್ರಶ್ನೆಪತ್ರಿಕೆಯ ಬಲಬದಿ ಪಾರ್ಶ್ವವನ್ನು ಕತ್ತರಿಸಿ, ಪ್ರಶ್ನೆಪತ್ರಿಕೆಯಲ್ಲಿ ಎಲ್ಲಾ ಪುಟಗಳು ಇವೆಯೇ ಎಂದು ಪರೀಕ್ಷಿಸಿಕೊಳ್ಳಿ.
3. ವಸ್ತುನಿಷ್ಠ ಮತ್ತು ವಿಷಯನಿಷ್ಠ ಮಾದರಿಯ ಪ್ರಶ್ನೆಗಳಿಗೆ ಕೊಟ್ಟಿರುವ ಸೂಚನೆಗಳನ್ನು ಪಾಲಿಸಿ.
4. ಬಲ ಭಾಗದಲ್ಲಿ ಕೊಟ್ಟಿರುವ ಅಂಕಗಳು ಪ್ರಶ್ನೆಗಳಿಗಿರುವ ಪೂರ್ಣ ಅಂಕಗಳನ್ನು ತೋರಿಸುತ್ತದೆ.
5. ಪ್ರಶ್ನೆಪತ್ರಿಕೆಯನ್ನು ಓದಿಕೊಳ್ಳಲು 15 ನಿಮಿಷಗಳ ಕಾಲಾವಕಾಶವು ಸೇರಿದಂತೆ, ಉತ್ತರಿಸಲು ನಿಗದಿಪಡಿಸಲಾದ ಸಮಯವನ್ನು ಪ್ರಶ್ನೆಪತ್ರಿಕೆಯ ಮೇಲ್ಭಾಗದಲ್ಲಿ ನೀಡಲಾಗಿದೆ.

30

RR (A) - 1123 ★

[Turn over

TEAR HERE TO OPEN THE QUESTION PAPER

ಪ್ರಶ್ನೆಪತ್ರಿಕೆಯನ್ನು ತೆರೆಯಲು ಇಲ್ಲಿ ಕತ್ತರಿಸಿ

Tear here

- I. ಈ ಕೆಳಗಿನ ಪ್ರಶ್ನೆಗಳಿಗೆ ಅಥವಾ ಅಪೂರ್ಣ ಹೇಳಿಕೆಗಳಿಗೆ ನಾಲ್ಕು ಪರ್ಯಾಯ ಉತ್ತರಗಳನ್ನು ನೀಡಲಾಗಿದೆ. ಅವುಗಳಲ್ಲಿ ಸೂಕ್ತವಾದ ಒಂದು ಉತ್ತರವನ್ನು ಆರಿಸಿ ಅದರ ಕ್ರಮಾಕ್ಷರದೊಡನೆ ಪೂರ್ಣ ಉತ್ತರವನ್ನು ಬರೆಯಿರಿ :

8 × 1 = 8

- ಸ್ವೈರೋಗೈರಾದಲ್ಲಿ ಕಂಡುಬರುವ ಸಂತಾನೋತ್ಪತ್ತಿಯ ವಿಧ
 - ಮೊಗ್ಗುವಿಕೆ
 - ತುಂಡರಿಕೆ
 - ಕಾಯಜ ಸಂತಾನೋತ್ಪತ್ತಿ
 - ಬೀಜಕಗಳ ಉತ್ಪಾದನೆ
- ಇವುಗಳಲ್ಲಿ ನೈಟ್ರೋಜನ್ ಅಣುವಿನ ಸರಿಯಾದ ಇಲೆಕ್ಟ್ರಾನ್ ಚುಕ್ಕೆ ರಚನೆಯನ್ನು ಗುರುತಿಸಿ.
 - :N::N:
 - :N::N:
 - N::N·
 - N::N·
- ಚಂದ್ರನ ಮೇಲ್ಮೈನಿಂದ ಆಕಾಶವನ್ನು ನೋಡಿದಾಗ ಅದು ಕಪ್ಪಾಗಿ ಕಾಣುತ್ತದೆ. ಏಕೆಂದರೆ,
 - ಸ್ವಲ್ಪವೇ ನೀಲಿ ಮತ್ತು ನೇರಳೆ ಬಣ್ಣಗಳು ಚದುರುತ್ತವೆ
 - ಎಲ್ಲಾ ಬಣ್ಣಗಳು ಚಂದ್ರನಲ್ಲಿರುವ ವಾತಾವರಣದಿಂದ ಹೀರಲ್ಪಡುತ್ತವೆ
 - ಎಲ್ಲಾ ಬಣ್ಣಗಳು ಚದುರಿಹೋಗುತ್ತವೆ
 - ಬೆಳಕನ್ನು ಚದುರಿಸಲು ಅಗತ್ಯವಿರುವ ವಾತಾವರಣದ ಕಣಗಳು ಇರುವುದಿಲ್ಲ

4. A, B, C ಮತ್ತು D ಧಾತುಗಳ ಪರಮಾಣು ಸಂಖ್ಯೆಗಳು ಕ್ರಮವಾಗಿ 3, 9, 4 ಮತ್ತು 8 ಆಗಿವೆ.

ಇವುಗಳಲ್ಲಿ ಲೋಹೀಯ ಸ್ವಭಾವವನ್ನು ಹೊಂದಿರುವ ಧಾತುಗಳು

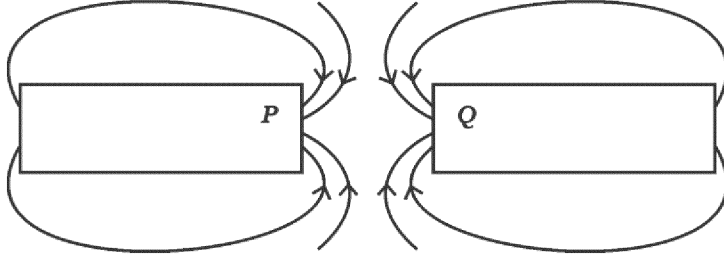
(A) B ಮತ್ತು D

(B) A ಮತ್ತು B

(C) A ಮತ್ತು C

(D) B ಮತ್ತು C

5. ಚಿತ್ರವನ್ನು ಗಮನಿಸಿ.





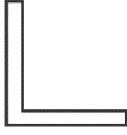

P ಮತ್ತು Q ಗಳು ಪ್ರತಿನಿಧಿಸುತ್ತಿರುವ ಕಾಂತಧ್ರುವಗಳು ಕ್ರಮವಾಗಿ

(A) ದಕ್ಷಿಣ (S) ಹಾಗೂ ದಕ್ಷಿಣ (S)

(B) ಉತ್ತರ (N) ಹಾಗೂ ದಕ್ಷಿಣ (S)

(C) ಉತ್ತರ (N) ಹಾಗೂ ಉತ್ತರ (N)

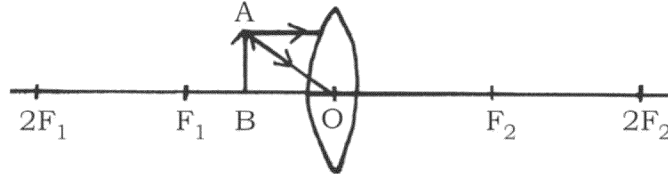
(D) ದಕ್ಷಿಣ (S) ಹಾಗೂ ಉತ್ತರ (N)

6. ಕಾರ್ಬೋಹೈಡ್ರೇಟ್‌ಗಳು, ಪ್ರೋಟೀನ್‌ಗಳು ಮತ್ತು ಕೊಬ್ಬುಗಳು ಸಂಪೂರ್ಣವಾಗಿ ಪಚನಗೊಳ್ಳುವ ಸ್ಥಳ
- (A) ಜಠರ
- (B) ದೊಡ್ಡ ಕರುಳು
- (C) ಸಣ್ಣ ಕರುಳು
- (D) ಯಕೃತ್
7. “L” ಎಂಬ ಇಂಗ್ಲಿಷ್ ಅಕ್ಷರದ ಪ್ರತಿಬಿಂಬವು ಪೀನದರ್ಪಣದಲ್ಲಿ ಹೀಗೆ ಕಾಣುತ್ತದೆ
- (A) 
- (B) 
- (C) 
- (D) 
8. $C_n H_{2n}$ ಸಾಮಾನ್ಯ ಸೂತ್ರವಿರುವ ಮತ್ತು 3 ಕಾರ್ಬನ್ ಪರಮಾಣುಗಳನ್ನು ಹೊಂದಿರುವ ಅಪರ್ಯಾಪ್ತ ಹೈಡ್ರೋಕಾರ್ಬನ್‌ನ ಹೆಸರು ಹಾಗೂ ಅಣುಸೂತ್ರ
- (A) ಪ್ರೋಪೇನ್, $C_3 H_8$
- (B) ಸೈಕ್ಲೋಪ್ರೋಪೇನ್, $C_3 H_6$
- (C) ಪ್ರೋಪೈನ್, $C_3 H_4$
- (D) ಪ್ರೋಪೀನ್, $C_3 H_6$

II. ಈ ಕೆಳಗಿನ ಪ್ರಶ್ನೆಗಳಿಗೆ ಉತ್ತರಿಸಿ.

8 × 1 = 8

9. ದಿ ಗ್ರೇಟ್ ಹಿಮಾಲಯನ್ ನ್ಯಾಷನಲ್ ಪಾರ್ಕ್‌ನ ಆಲ್ಪೈನ್ ಹುಲ್ಲುಗಾವಲಿನಲ್ಲಿ ಕುರಿಗಳ ನಿಯಮಿತ ಮೇಯುವಿಕೆಯ ಪದ್ಧತಿಯನ್ನು ಅಂತ್ಯಗೊಳಿಸಲಾಯಿತು. ಈ ಕ್ರಮದಿಂದ ಹುಲ್ಲುಗಾವಲಿನ ಮೇಲೆ ಉಂಟಾದ ಪರಿಣಾಮಗಳೇನು ?
10. ಉಭಯಧರ್ಮಿ ಆಕ್ಸೈಡ್‌ಗಳೆಂದರೇನು ?
11. ಕೊಟ್ಟಿರುವ ಅಪೂರ್ಣವಾದ ರೇಖಾಚಿತ್ರವನ್ನು ಗಮನಿಸಿ.



ವಕ್ರೀಭವನ ಕಿರಣಗಳನ್ನು ಬರೆಯುವುದರ ಮೂಲಕ ರೇಖಾಚಿತ್ರವನ್ನು ಪೂರ್ಣಗೊಳಿಸಿ ಮತ್ತು ಉಂಟಾದ ಪ್ರತಿಬಿಂಬವನ್ನು ತೋರಿಸಿ.

12. ಮಾರ್ಜಕವನ್ನು ಬಳಸಿ ನೀರಿನ ಗಡಸುತನವನ್ನು ಪರಿಶೋಧಿಸಬಹುದೇ ? ಕಾರಣ ಕೊಡಿ.
13. ಪಳೆಯುಳಿಕೆ ಇಂಧನಗಳ ಅಪೂರ್ಣ ದಹನದಿಂದ ಉತ್ಪತ್ತಿಯಾಗುವ ವಿಷಕಾರಿ ಅನಿಲವನ್ನು ಹೆಸರಿಸಿ.
14. ಕೊನೆಯ ಬೆಂಚಿನಲ್ಲಿ ಕುಳಿತಿರುವ ಒಬ್ಬ ವಿದ್ಯಾರ್ಥಿಯು ಕಪ್ಪುಹಲಗೆಯ ಬರಹವನ್ನು ಓದಲು ಕಷ್ಟಪಡುತ್ತಾನೆ. ಆ ವಿದ್ಯಾರ್ಥಿಗೆ ಯಾವ ದೃಷ್ಟಿದೋಷ ಇದೆ ? ಅದನ್ನು ಹೇಗೆ ಸರಿಪಡಿಸಬಹುದು ?
15. ಚಿಪ್ಸ್ ತಯಾರಕರು ಚಿಪ್ಸ್‌ನ ಪೊಟ್ಟಣದೊಳಗೆ ನೈಟ್ರೋಜನ್ ಅನಿಲವನ್ನು ಹಾಯಿಸುತ್ತಾರೆ. ಏಕೆ ?
16. ಗೃಹಬಳಕೆ ವಿದ್ಯುನ್ಮಂಡಲದಲ್ಲಿ ಓವರ್‌ಲೋಡ್ ಅನ್ನು ತಪ್ಪಿಸಲು ಯಾವುದಾದರೂ ಎರಡು ಕ್ರಮಗಳನ್ನು ತಿಳಿಸಿ.

III. ಈ ಕೆಳಗಿನ ಪ್ರಶ್ನೆಗಳಿಗೆ ಉತ್ತರಿಸಿ.

8 × 2 = 16

17. ಪಳೆಯುಳಿಕೆಗಳ ಕಾಲವನ್ನು ಅಂದಾಜು ಮಾಡುವ ಎರಡು ವಿಧಾನಗಳನ್ನು ವಿವರಿಸಿ.

18. ನೀರಿನಲ್ಲಿ ಆಮ್ಲೀಯ ದ್ರಾವಣ ವಿದ್ಯುತ್ವನ್ನು ಪ್ರವಹಿಸುವುದನ್ನು ತೋರಿಸುವ ಚಿತ್ರವನ್ನು ಬರೆದು ಬ್ಯಾಟರಿಯನ್ನು ಗುರುತಿಸಿ.

ಅಥವಾ

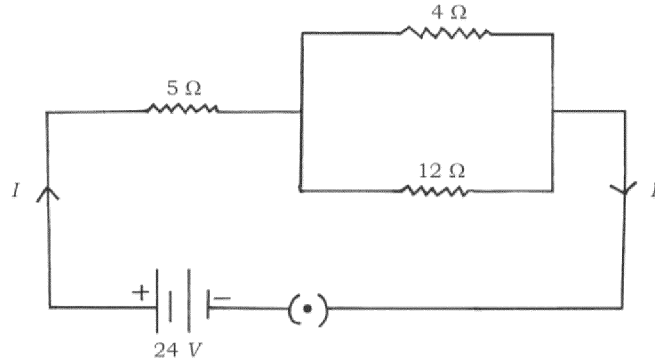
ಸಾರರಿಕ್ತ ಸಲ್ಫ್ಯೂರಿಕ್ ಆಮ್ಲದೊಂದಿಗೆ ಸತುವಿನ ಚೂರುಗಳ ವರ್ತನೆ ಮತ್ತು ಉರಿಸುವಿಕೆಯ ಮೂಲಕ ಹೈಡ್ರೋಜನ್ ಅನಿಲದ ಪರಿಶೀಲನೆ ಮಾಡುವ ಉಪಕರಣಗಳ ಜೋಡಣೆಯ ಚಿತ್ರವನ್ನು ಬರೆದು ಸತುವಿನ ಚೂರುಗಳನ್ನು ಗುರುತಿಸಿ.

19. ಚಪಾತಿಯನ್ನು ನಿಧಾನವಾಗಿ ಜಗಿದು ತಿಂದಾಗ ಸಿಹಿಯಾಗಿ ರುಚಿಸುತ್ತದೆ. ಏಕೆ ?
20. ಒಂದು ಮಸೂರದ ವಸ್ತುದೂರ ಮತ್ತು ಪ್ರತಿಬಿಂಬ ದೂರಗಳು ಕ್ರಮವಾಗಿ - 30 cm ಹಾಗೂ - 10 cm ಆಗಿವೆ. ವರ್ಧನೆಯನ್ನು ಕಂಡುಹಿಡಿದು ಬಳಸಲಾಗಿರುವ ಮಸೂರದ ವಿಧ ಹಾಗೂ ಪ್ರತಿಬಿಂಬದ ಸ್ವಭಾವವನ್ನು ನಿರ್ಧರಿಸಿ.
21. ಹೆದರಿಕೆಯಿಂದಾಗಿ ಒಬ್ಬ ವ್ಯಕ್ತಿಯ ಮುಖವು ಬಿಳಿಚಿಕೊಂಡಿದೆ ಮತ್ತು ಅವನ ಉಸಿರಾಟದ ಗತಿ ಹೆಚ್ಚಾಗಿದೆ. ವ್ಯಕ್ತಿಯು ಈ ಪರಿಸ್ಥಿತಿಯನ್ನು ಎದುರಿಸಲು ಸಿದ್ಧವಾಗುವಂತೆ ಮಾಡುವ ಪ್ರಕ್ರಿಯೆಯನ್ನು ವಿಶ್ಲೇಷಿಸಿ.
22. ಮೆಂಡಲೀವ್‌ರ ಆವರ್ತಕ ಕೋಷ್ಟಕದ ಮಿತಿಗಳನ್ನು ಆಧುನಿಕ ಆವರ್ತಕ ಕೋಷ್ಟಕದಲ್ಲಿ ಹೇಗೆ ಸರಿಪಡಿಸಲಾಗಿದೆ ?

ಅಥವಾ

ಪರಮಾಣು ಗಾತ್ರವು ಆಧುನಿಕ ಆವರ್ತಕ ಕೋಷ್ಟಕದಲ್ಲಿ ಗುಂಪು ಮತ್ತು ಆವರ್ತಗಳಲ್ಲಿ ಹೇಗೆ ಬದಲಾಗುತ್ತದೆ ? ಏಕೆ ?

23. ಕೊಟ್ಟಿರುವ ವಿದ್ಯುನ್ಮಂಡಲದ ಚಿತ್ರವನ್ನು ಗಮನಿಸಿ.



ವಿದ್ಯುನ್ಮಂಡಲದ ಒಟ್ಟು ರೋಧ ಮತ್ತು ಮಂಡಲದ ಮೂಲಕ ಹರಿಯುವ ಒಟ್ಟು ವಿದ್ಯುತ್ಪ್ರವಾಹವನ್ನು ಲೆಕ್ಕಾಚಾರ ಮಾಡಿ.

24. ತಾಮ್ರದ ಸಲ್ಫೇಟ್ ದ್ರಾವಣದಿಂದ ತಾಮ್ರವನ್ನು ಶುದ್ಧೀಕರಿಸಲು ಉಪಯೋಗಿಸುವ ಉಪಕರಣ ಜೋಡಣೆಯ ಚಿತ್ರವನ್ನು ಬರೆಯಿರಿ. ಕೆಳಗಿನ ಭಾಗಗಳನ್ನು ಗುರುತಿಸಿ.

a) ಕ್ಯಾಥೋಡ್

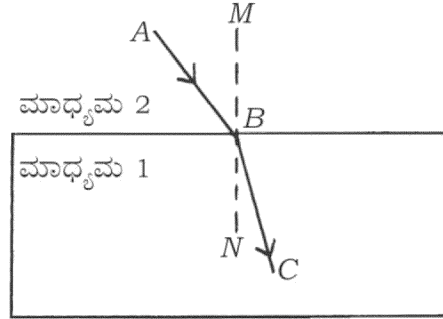
b) ಧನಾಗ್ರ ಮಡ್ಡಿ

IV. ಈ ಕೆಳಗಿನ ಪ್ರಶ್ನೆಗಳಿಗೆ ಉತ್ತರಿಸಿ.

9 × 3 = 27

25. a) ಬೆಳಕಿನ ವಕ್ರೀಭವನದ ನಿಯಮಗಳನ್ನು ನಿರೂಪಿಸಿ.

b) ಕೊಟ್ಟಿರುವ ಚಿತ್ರದಲ್ಲಿ AB ಪತನಕಿರಣ, BC ವಕ್ರೀಮಕಿರಣ ಹಾಗೂ MN ಪತನಬಿಂದುವಿನಲ್ಲಿ ಎಳೆದ ಲಂಬವಾಗಿದೆ. ಯಾವ ಮಾಧ್ಯಮವು ಹೆಚ್ಚು ಸಾಂದ್ರವಾಗಿದೆ ? ಏಕೆ ?



ಅಥವಾ

a) ಪೀನ ದರ್ಪಣ ಮತ್ತು ನಿಮ್ಮ ದರ್ಪಣಗಳಿಗಿರುವ ವ್ಯತ್ಯಾಸಗಳನ್ನು ಬರೆಯಿರಿ.

b) ಒಂದು ಪೀನ ಮಸೂರದ 'ಪ್ರಧಾನ ಸಂಗಮ'ವನ್ನು ನಿರೂಪಿಸಿ.

26. ಸತು, ಕಬ್ಬಿಣ, ಮೆಗ್ನೀಷಿಯಂ ಹಾಗೂ ತಾಮ್ರದ ಚೂರುಗಳನ್ನು A, B, C ಮತ್ತು D ಎಂಬ ಪ್ರನಾಳಗಳಲ್ಲಿ ಕ್ರಮವಾಗಿ ತೆಗೆದುಕೊಳ್ಳಲಾಗಿದೆ. ಈ ಪ್ರನಾಳಗಳಿಗೆ ಒಂದೇ ಪ್ರಮಾಣದ ಫೆರಸ್ ಸಲ್ಫೇಟ್ ದ್ರಾವಣವನ್ನು ಸೇರಿಸಲಾಗಿದೆ. ಯಾವ ಪ್ರನಾಳಗಳಲ್ಲಿ ರಾಸಾಯನಿಕ ಕ್ರಿಯೆ ನಡೆಯುತ್ತದೆ ? ಏಕೆ ? ಇಲ್ಲಿ ನಡೆಯುವ ಕ್ರಿಯೆಗಳಿಗೆ ರಾಸಾಯನಿಕ ಸಮೀಕರಣಗಳನ್ನು ಬರೆಯಿರಿ.

27. ಮೆಂಡಲರು ಕೆಂಪು ಹೂವುಗಳನ್ನು ಹೊಂದಿರುವ ಸಸ್ಯಗಳನ್ನು (RR) ಬಿಳಿ ಹೂವುಗಳನ್ನು ಹೊಂದಿರುವ ಸಸ್ಯಗಳೊಂದಿಗೆ (rr) ಸಂಕರಿಸಿ, ಅವುಗಳಿಂದ ಸಂತತಿಯನ್ನು ಉತ್ಪಾದಿಸಿದರು. F₁ ಪೀಳಿಗೆಯಲ್ಲಿ ದೊರೆತ ಕೆಂಪು ಹೂವುಗಳನ್ನು ಹೊಂದಿರುವ ಸಸ್ಯಗಳು, ಪೋಷಕ ಪೀಳಿಗೆಯ ಕೆಂಪು ಹೂವುಗಳನ್ನು ಹೊಂದಿರುವ ಸಸ್ಯಗಳಿಗಿಂತ ಭಿನ್ನವಾಗಿದ್ದವು. ಏಕೆ ? ಕಾರಣಗಳೊಂದಿಗೆ ವಿವರಿಸಿ.
28. a) ನ್ಯೂಕ್ಲಿಯರ್ ವಿದ್ಯುತ್ ಕ್ರಿಯಾಕಾರಿಯಲ್ಲಿ ನ್ಯೂಕ್ಲಿಯೇಯ ಶಕ್ತಿಯನ್ನು ಹೇಗೆ ಉತ್ಪಾದಿಸಲಾಗುತ್ತದೆ ಎಂಬುದನ್ನು ವಿವರಿಸಿ. ನ್ಯೂಕ್ಲಿಯೇಯ ಶಕ್ತಿಯಿಂದ ವಿದ್ಯುತ್ ಶಕ್ತಿಯನ್ನು ಹೇಗೆ ತಯಾರಿಸಲಾಗುತ್ತದೆ ?
- b) ನ್ಯೂಕ್ಲಿಯರ್ ವಿದ್ಯುತ್ ಕ್ರಿಯಾಕಾರಿಯಿಂದಾಗುವ ಎರಡು ಅಪಾಯಗಳನ್ನು ತಿಳಿಸಿ.

ಅಥವಾ

- a) ನಾವು ಪರ್ಯಾಯ ಇಂಧನ ಆಕರಗಳತ್ತ ಗಮನ ಹರಿಸುತ್ತಿದ್ದೇವೆ. ಏಕೆ ? ವಿವರಿಸಿ.
- b) ಸೌರಕೋಶಗಳಿಗೆ ಸಂಬಂಧಿಸಿದ ಅನುಕೂಲತೆಗಳು ಹಾಗೂ ಅನಾನುಕೂಲತೆಗಳನ್ನು ತಿಳಿಸಿ.
29. ಈ ಕೆಳಗಿನ ಕ್ರಿಯೆಗಳಿಗೆ ಸರಿದೂಗಿಸಿದ ರಾಸಾಯನಿಕ ಸಮೀಕರಣಗಳನ್ನು ಬರೆಯಿರಿ. ಈ ರಾಸಾಯನಿಕ ಕ್ರಿಯೆಗಳು ನಡೆಯುವುದನ್ನು ವೀಕ್ಷಣೆಯಿಂದ ಹೇಗೆ ಖಚಿತಪಡಿಸಿಕೊಳ್ಳಬಹುದು ?
- a) ಸೀಸದ ನೈಟ್ರೇಟ್ ಅನ್ನು ಕಾಸಿದಾಗ
- b) ಬೇರಿಯಂ ಕ್ಲೋರೈಡ್‌ನೊಂದಿಗೆ ಸೋಡಿಯಂ ಸಲ್ಫೇಟ್ ವರ್ತಿಸಿದಾಗ
30. ರಕ್ತ ಪರಿಚಲನೆಯಲ್ಲಿ ಅಪಧಮನಿ, ಅಭಿಧಮನಿ ಮತ್ತು ಲೋಮನಾಳಗಳ ಕಾರ್ಯಗಳು ಹೇಗೆ ಒಂದಕ್ಕೊಂದು ಸಂಬಂಧಿಸಿವೆ ?

ಅಥವಾ

ಸಸ್ಯವೊಂದರ ಎತರದ ಭಾಗಗಳಿಗೆ ನೀರಿನ ಸಾಗಾಣಿಕೆ ಹೇಗೆ ನಡೆಯುತ್ತದೆ ? ವಿವರಿಸಿ.

31. ಬಿಳಿ ಬಣ್ಣದ ರೋಹಿತದ ಪುನರ್ ಸಂಯೋಜನೆಯ ಚಿತ್ರವನ್ನು ಬರೆದು ಕೆಳಗಿನ ಭಾಗಗಳನ್ನು ಗುರುತಿಸಿ.

a) ಅತ್ಯಂತ ಹೆಚ್ಚು ಬಾಗುವ ಬೆಳಕಿನ ಕಿರಣ

b) ಅತ್ಯಂತ ಕಡಿಮೆ ಬಾಗುವ ಬೆಳಕಿನ ಕಿರಣ

32. ಕೆಳಗಿನ ಸಂಯುಕ್ತಗಳ ಅಣುಸೂತ್ರಗಳನ್ನು ಬರೆದು ಪ್ರತಿಯೊಂದರ ಎರಡು ಉಪಯೋಗಗಳನ್ನು ತಿಳಿಸಿ.

a) ಬ್ಲೀಚಿಂಗ್ ಪುಡಿ

b) ಪ್ಲಾಸ್ಟರ್ ಆಫ್ ಪ್ಯಾರಿಸ್

ಅಥವಾ

ಪ್ರಬಲ ಆಮ್ಲ ಎಂದರೇನು ? ಹಲ್ಲಿನ ಸವೆತ ಹೇಗೆ ಉಂಟಾಗುತ್ತದೆ ವಿವರಿಸಿ. ಇದನ್ನು ಹೇಗೆ ತಡೆಗಟ್ಟಬಹುದು ?

33. ಕಾರಣ ಕೊಡಿ.

a) ಆಹಾರ ಸರಪಳಿಗಳು ಸಾಮಾನ್ಯವಾಗಿ ಮೂರು ಅಥವಾ ನಾಲ್ಕು ಹಂತಗಳನ್ನು ಮಾತ್ರ ಬಳಗೊಂಡಿರುತ್ತವೆ.

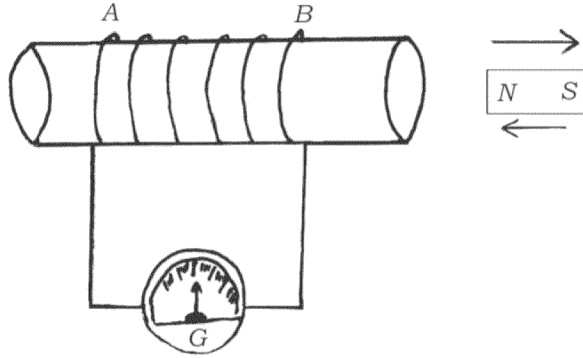
b) ಪರಿಸರ ವ್ಯವಸ್ಥೆಯಲ್ಲಿ ವಿಘಟಕಗಳ ಪಾತ್ರ ಪ್ರಮುಖವಾಗಿದೆ.

c) ಓರ್ಬೋನ್ ಪದರವನ್ನು ರಕ್ಷಿಸುವುದು ಅಗತ್ಯವಾಗಿದೆ.

V. ಈ ಕೆಳಗಿನ ಪ್ರಶ್ನೆಗಳಿಗೆ ಉತ್ತರಿಸಿ.

4 × 4 = 16

34. a) ರಚನಾ ಸಮಾಂಗಿಗಳು ಎಂದರೇನು ? ಬ್ಯೂಟೇನ್ ಅಣುವಿನ ಎರಡು ರಚನೆಗಳನ್ನು ಬರೆಯಿರಿ.
- b) ಆಲ್ಕೋಹಾಲ್ ಮತ್ತು ಕಾರ್ಬಾಕ್ಸಿಲಿಕ್ ಆಮ್ಲದ ನಡುವಣ ವ್ಯತ್ಯಾಸವನ್ನು ಪ್ರಾಯೋಗಿಕವಾಗಿ ಹೇಗೆ ಪತ್ತೆಹಚ್ಚುವಿರಿ ?
35. ಮಾನವನ ಮಿದುಳಿನ ನೀಳಭೇದ ನೋಟವನ್ನು ತೋರಿಸುವ ಚಿತ್ರವನ್ನು ಬರೆಯಿರಿ. ಈ ಕೆಳಗಿನ ಭಾಗಗಳನ್ನು ಗುರುತಿಸಿ.
- a) ಮಧ್ಯ ಮಿದುಳು
- b) ಎಲ್ಲಾ ಅಂಗಗಳಲ್ಲಿ ಬೆಳವಣಿಗೆಯನ್ನು ಪ್ರಚೋದಿಸುವ ಗ್ರಂಥಿ
36. ಕೊಟ್ಟಿರುವ ಚಿತ್ರವನ್ನು ಗಮನಿಸಿ. ಚಿತ್ರಕ್ಕೆ ಸಂಬಂಧಿಸಿದ ಪ್ರಯೋಗವನ್ನು ವಿವರಿಸಿ. ಈ ಪ್ರಯೋಗದಿಂದ ಯಾವ ತೀರ್ಮಾನಗಳನ್ನು ತೆಗೆದುಕೊಳ್ಳಬಹುದು ?



37. a) ಋತು ಚಕ್ರವು ಹೇಗೆ ಉಂಟಾಗುತ್ತದೆ ?
- b) ಹೈಡ್ರಾದಲ್ಲಿ ಮೊಗ್ಗುವಿಕೆ ವಿಧಾನವು ಬ್ರಯೋಫಿಲ್ಲಮ್‌ನ ಮೊಗ್ಗುವಿಕೆಗಿಂತ ಹೇಗೆ ಭಿನ್ನವಾಗಿದೆ ?

ಅಥವಾ

- a) ಸ್ತ್ರೀಯರಲ್ಲಿ ನಿಶೇಚನಗೊಂಡ ಅಂಡವು ಭ್ರೂಣವಾಗಿ ಬೆಳೆಯುವುದನ್ನು ವಿವರಿಸಿ.
- b) ಮಾನವರಲ್ಲಿ ಗರ್ಭನಿರೋಧಕ ಶಸ್ತ್ರಕ್ರಿಯಾ ವಿಧಾನಗಳನ್ನು ಬಳಸಿ ಗರ್ಭಧಾರಣೆಯನ್ನು ಹೇಗೆ ತಡೆಗಟ್ಟಬಹುದು ?

VI. ಈ ಕೆಳಗಿನ ಪ್ರಶ್ನೆಗೆ ಉತ್ತರಿಸಿ.

1 × 5 = 5

38. “ಎರಡು ಬಿಂದುಗಳ ನಡುವಿನ ವಿಭವಾಂತರ 1 V.” ಈ ಹೇಳಿಕೆಯ ಅರ್ಥವನ್ನು ತಿಳಿಸಿ ವಿಭವಾಂತರವನ್ನು ಅಳೆಯಲು ಬಳಸುವ ಸಾಧನವನ್ನು ಹೆಸರಿಸಿ. ಒಂದು ವಾಹಕದ ರೋಧ ಎಂದರೇನು ? ವಿದ್ಯುತ್ ಸಾಮರ್ಥ್ಯ ಎಂದರೇನು ? ವಿದ್ಯುತ್ ಸಾಮರ್ಥ್ಯವನ್ನು ಕಂಡುಹಿಡಿಯಲು ಬಳಸುವ ಮೂರು ಸೂತ್ರಗಳನ್ನು ಬರೆಯಿರಿ.



