

ಒಟ್ಟು ಮುದ್ರಿತ ಪುಟಗಳ ಸಂಖ್ಯೆ : 12]
Total No. of Printed Pages : 12]

ಒಟ್ಟು ಪ್ರಶ್ನೆಗಳ ಸಂಖ್ಯೆ : 48]
Total No. of Questions : 48]

ಸಂಕೇತ ಸಂಖ್ಯೆ : **81-K**
Code No. : 81-K

C

**CCE PR
REVISED**

Question Paper Serial No. **11**

ಇಲ್ಲಿ ಕತ್ತರಿಸಿ

ವಿಷಯ : **ಗಣಿತ**

Subject : MATHEMATICS

(ಕನ್ನಡ ಭಾಷಾಂತರ / **Kannada Version**)

(ಹೊಸ ಪಠ್ಯಕ್ರಮ / **New Syllabus**)

(ಪುನರಾವರ್ತಿತ ಖಾಸಗಿ ಅಭ್ಯರ್ಥಿ / **Private Repeater**)

ದಿನಾಂಕ : 21. 09. 2020]

[Date : 21. 09. 2020

ಸಮಯ : ಬೆಳಿಗ್ಗೆ 10-30 ರಿಂದ ಮಧ್ಯಾಹ್ನ 1-45 ರವರೆಗೆ]

[Time : 10-30 A.M. to 1-45 P.M.

ಗರಿಷ್ಠ ಅಂಕಗಳು : 100]

[Max. Marks : 100

ಪರೀಕ್ಷಾರ್ಥಿಗಾಗಿ ಸಾಮಾನ್ಯ ಸೂಚನೆಗಳು :

1. ಈ ಪ್ರಶ್ನೆಪತ್ರಿಕೆಯು 48 ವಸ್ತುನಿಷ್ಠ ಮತ್ತು ವಿಷಯನಿಷ್ಠ ಮಾದರಿಯ ಪ್ರಶ್ನೆಗಳನ್ನು ಹೊಂದಿದೆ.
2. ಈ ಪ್ರಶ್ನೆಪತ್ರಿಕೆಯನ್ನು ಹಿಮ್ಮುಖ ಜಾಕೆಟ್ ಮೂಲಕ ಮೊಹರು (ಸೀಲ್) ಮಾಡಲಾಗಿದೆ. ಪರೀಕ್ಷೆ ಪ್ರಾರಂಭವಾಗುವ ಸಮಯಕ್ಕೆ ನಿಮ್ಮ ಪ್ರಶ್ನೆಪತ್ರಿಕೆಯ ಬಲಬದಿ ಪಾರ್ಶ್ವವನ್ನು ಕತ್ತರಿಸಿ, ಪ್ರಶ್ನೆಪತ್ರಿಕೆಯಲ್ಲಿ ಎಲ್ಲಾ ಪುಟಗಳು ಇವೆಯೇ ಎಂದು ಪರೀಕ್ಷಿಸಿಕೊಳ್ಳಿ.
3. ವಸ್ತುನಿಷ್ಠ ಮತ್ತು ವಿಷಯನಿಷ್ಠ ಮಾದರಿಯ ಪ್ರಶ್ನೆಗಳಿಗೆ ಕೊಟ್ಟಿರುವ ಸೂಚನೆಗಳನ್ನು ಪಾಲಿಸಿ.
4. ಬಲ ಭಾಗದಲ್ಲಿ ಕೊಟ್ಟಿರುವ ಅಂಕಗಳು ಪ್ರಶ್ನೆಗಳಿಗಿರುವ ಪೂರ್ಣ ಅಂಕಗಳನ್ನು ತೋರಿಸುತ್ತದೆ.
5. ಪ್ರಶ್ನೆಪತ್ರಿಕೆಯನ್ನು ಓದಿಕೊಳ್ಳಲು 15 ನಿಮಿಷಗಳ ಕಾಲಾವಕಾಶವು ಸೇರಿದಂತೆ, ಉತ್ತರಿಸಲು ನಿಗದಿಪಡಿಸಲಾದ ಸಮಯವನ್ನು ಪ್ರಶ್ನೆಪತ್ರಿಕೆಯ ಮೇಲ್ಭಾಗದಲ್ಲಿ ನೀಡಲಾಗಿದೆ.

TEAR HERE TO OPEN THE QUESTION PAPER

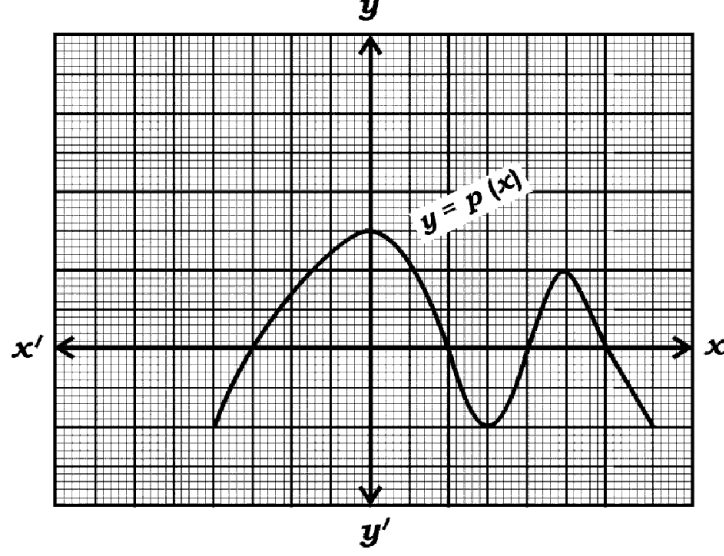
ಪ್ರಶ್ನೆಪತ್ರಿಕೆಯನ್ನು ತೆರೆಯಲು ಇಲ್ಲಿ ಕತ್ತರಿಸಿ

Tear here

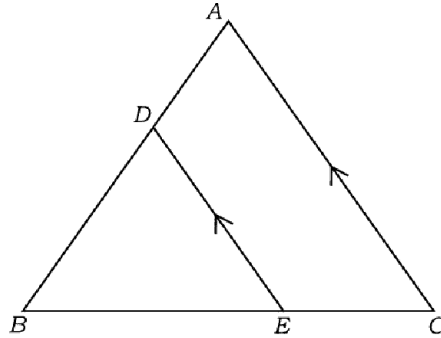
- I. ಈ ಕೆಳಗಿನ ಪ್ರಶ್ನೆಗಳಿಗೆ ಅಥವಾ ಅಪೂರ್ಣ ಹೇಳಿಕೆಗಳಿಗೆ ನಾಲ್ಕು ಪರ್ಯಾಯ ಉತ್ತರಗಳನ್ನು ನೀಡಲಾಗಿದೆ. ಅವುಗಳಲ್ಲಿ ಸೂಕ್ತವಾದ ಉತ್ತರವನ್ನು ಆರಿಸಿ, ಕ್ರಮಾಕ್ಷರದೊಡನೆ ಪೂರ್ಣ ಉತ್ತರವನ್ನು ಬರೆಯಿರಿ :

8 × 1 = 8

1. ಕೊಟ್ಟಿರುವ ನಕ್ಷೆಯಲ್ಲಿ $y = p(x)$ ಬಹುಪದೋಕ್ತಿಯ ಶೂನ್ಯತೆಗಳ ಸಂಖ್ಯೆಯು



- (A) 3 (B) 5
(C) 4 (D) 2
2. $\sec^2 26^\circ - \tan^2 26^\circ$ ಯ ಬೆಲೆಯು
- (A) $\frac{1}{2}$ (B) 0
(C) 2 (D) 1
3. ತ್ರಿಭುಜ ABC ಯಲ್ಲಿ $DE \parallel AC$ ಆಗಿದ್ದು, ಇವುಗಳಲ್ಲಿ ಸರಿಯಾದ ಸಂಬಂಧವು



- (A) $\frac{BD}{AB} = \frac{AC}{DE} = \frac{BC}{BE}$ (B) $\frac{BD}{AB} = \frac{DE}{AC} = \frac{BE}{BC}$
(C) $\frac{AB}{BD} = \frac{AC}{DE} = \frac{BE}{EC}$ (D) $\frac{AD}{BD} = \frac{DE}{AC} = \frac{BE}{EC}$

PR (C) - # 41014

4. ಒಂದು ನೇರ ವೃತ್ತಪಾದ ಸಿಲಿಂಡರ್ ಹಾಗೂ ನೇರ ವೃತ್ತಪಾದ ಶಂಕುವಿನ ಪಾದ ಮತ್ತು ಎತ್ತರಗಳು ಸಮನಾಗಿದ್ದು, ಸಿಲಿಂಡರಿನ ಘನಫಲವು 360 cm^3 ಆದರೆ ಶಂಕುವಿನ ಘನಫಲವು,
- (A) 120 cm^3 (B) 180 cm^3
 (C) 90 cm^3 (D) 360 cm^3
5. $x + 2y - 4 = 0$ ಮತ್ತು $2x + 4y - 12 = 0$ ಸಮೀಕರಣಗಳನ್ನು ಪ್ರತಿನಿಧಿಸುವ ರೇಖೆಗಳು,
- (A) ಛೇದಿಸುವ ರೇಖೆಗಳು (B) ಸಮಾಂತರ ರೇಖೆಗಳು
 (C) ಐಕ್ಯವಾಗುವ ರೇಖೆಗಳು (D) ಪರಸ್ಪರ ಲಂಬರೇಖೆಗಳು
6. ಒಂದು ಸಮಾಂತರ ಶ್ರೇಣಿಯ n ನೇ ಪದ $a_n = 3n - 2$ ಆದಾಗ, ಆ ಶ್ರೇಣಿಯ 9 ನೇ ಪದವು
- (A) -25 (B) 5
 (C) -5 (D) 25
7. $P(A) = \frac{2}{3}$ ಆದರೆ, $P(\bar{A})$ ಯು
- (A) $\frac{1}{3}$ (B) 3
 (C) 1 (D) $\frac{3}{2}$
8. 7 ಸೆಂ.ಮೀ. ತ್ರಿಜ್ಯವಿರುವ ಗೋಳದ ಮೇಲ್ಮೈ ವಿಸ್ತೀರ್ಣವು
- (A) 154 ಚ.ಸೆಂ.ಮೀ. (B) 616 ಚ.ಸೆಂ.ಮೀ.
 (C) 616 ಚ.ಸೆಂ.ಮೀ. (D) 308 ಚ.ಸೆಂ.ಮೀ.

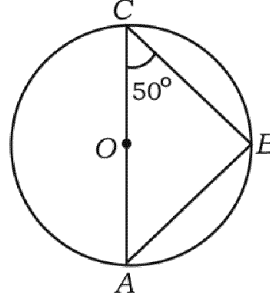
II. ಈ ಕೆಳಗಿನ ಪ್ರಶ್ನೆಗಳಿಗೆ ಉತ್ತರಿಸಿ :

8 × 1 = 8

9. ಎರಡು ರೇಖಾತ್ಮಕ ಸಮೀಕರಣ $a_1x + b_1y + c_1 = 0$ ಹಾಗೂ $a_2x + b_2y + c_2 = 0$ ಗಳಲ್ಲಿ $\frac{a_1}{a_2} \neq \frac{b_1}{b_2}$ ಆದಾಗ, ಈ ಜೋಡಿ ರೇಖಾತ್ಮಕ ಸಮೀಕರಣಗಳು ಹೊಂದಿರುವ ಪರಿಹಾರಗಳ ಸಂಖ್ಯೆ ಬರೆಯಿರಿ.

10. $\cos \theta = \frac{24}{25}$ ಆದರೆ $\sec \theta$ ದ ಬೆಲೆಯನ್ನು ಬರೆಯಿರಿ.

11. ಚಿತ್ರದಲ್ಲಿರುವಂತೆ 'O' ಕೇಂದ್ರವಿರುವ ವೃತ್ತದಲ್ಲಿ AC ಒಂದು ವ್ಯಾಸವಾಗಿದೆ, $\angle ACB = 50^\circ$ ಆದರೆ, $\angle BAC$ ಯ ಅಳತೆಯನ್ನು ಕಂಡುಹಿಡಿಯಿರಿ.



12. ವೃತ್ತಪಾದದ ತ್ರಿಜ್ಯ 'r' ಮತ್ತು ಓರೆ ಎತ್ತರ 'l' ಆಗಿರುವ ಒಂದು ನೇರ ವೃತ್ತಪಾದ ಶಂಕುವಿನ ಪೂರ್ಣ ಮೇಲ್ಮೈ ವಿಸ್ತೀರ್ಣವನ್ನು ಕಂಡುಹಿಡಿಯುವ ಸೂತ್ರವನ್ನು ಬರೆಯಿರಿ.

13. ಅತೀ ಚಿಕ್ಕ ಅವಿಭಾಜ್ಯ ಸಂಖ್ಯೆ ಹಾಗೂ ಅತೀ ಚಿಕ್ಕ ಸಂಯುಕ್ತ ಸಂಖ್ಯೆಗಳ ಮ.ಸಾ.ಅ. ಕಂಡುಹಿಡಿಯಿರಿ.

14. $P(x) = 2x^3 + 3x^2 - 11x + 6$ ಆದರೆ, $P(1)$ ರ ಬೆಲೆಯನ್ನು ಕಂಡುಹಿಡಿಯಿರಿ.

15. $(x + 4)(x + 3) = 0$ ಸಮೀಕರಣದಲ್ಲಿ ಒಂದು ಮೂಲವು -4 ಆದರೆ, ಆ ಸಮೀಕರಣದ ಇನ್ನೊಂದು ಮೂಲವನ್ನು ಕಂಡುಹಿಡಿಯಿರಿ.

16. $\sin^2 A = 0$ ಆದಾಗ, $\cos A$ ಯ ಬೆಲೆಯನ್ನು ಕಂಡುಹಿಡಿಯಿರಿ.

III. ಈ ಕೆಳಗಿನ ಪ್ರಶ್ನೆಗಳಿಗೆ ಉತ್ತರಿಸಿ :

18 × 2 = 36

17. ಈ ಕೆಳಗಿನ ರೇಖಾತ್ಮಕ ಸಮೀಕರಣಗಳ ಜೋಡಿಗಳನ್ನು ಬಿಡಿಸಿ :

$$2x + 3y = 11$$

$$2x - 4y = -24$$

PR (C) - # 41014

18. $5 + 10 + 15 + \dots$ ಈ ಸಮಾಂತರ ಶ್ರೇಣಿಯ ಮೊದಲ 20 ಪದಗಳ ಮೊತ್ತವನ್ನು ಸೂಕ್ತವಾದ ಸೂತ್ರದ ಸಹಾಯದಿಂದ ಕಂಡುಹಿಡಿಯಿರಿ.
19. $P(x) = 2x^2 - 6x + k$ ಈ ಬಹುಪದೋಕ್ತಿಯ ಶೂನ್ಯತೆಗಳ ಮೊತ್ತವು ಅವುಗಳ ಗುಣಲಬ್ಧದ ಅರ್ಧದಷ್ಟಕ್ಕೆ ಸಮನಾದರೆ k ಯ ಬೆಲೆಯನ್ನು ಕಂಡುಹಿಡಿಯಿರಿ.
20. $2x^2 - 5x - 1 = 0$ ವರ್ಗಸಮೀಕರಣದ ಶೋಧಕವನ್ನು ಕಂಡುಹಿಡಿಯಿರಿ ಮತ್ತು ಇದರಿಂದ ಮೂಲಗಳ ಸ್ವಭಾವವನ್ನು ನಿರ್ಧರಿಸಿ ಬರೆಯಿರಿ.
21. $\operatorname{cosec} A (1 - \cos A) (\operatorname{cosec} A + \cot A) = 1$ ಎಂದು ಸಾಧಿಸಿ.

ಅಥವಾ

$$\frac{\tan A - \sin A}{\tan A + \sin A} = \frac{\sec A - 1}{\sec A + 1} \text{ ಎಂದು ಸಾಧಿಸಿ.}$$

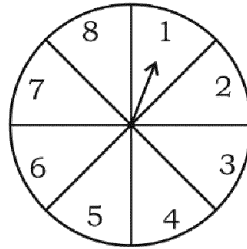
22. (2, 3) ಮತ್ತು (4, 7) ಬಿಂದುಗಳನ್ನು ಸೇರಿಸುವ ರೇಖಾಖಂಡದ ಮಧ್ಯಬಿಂದುವಿನ ನಿರ್ದೇಶಾಂಕಗಳನ್ನು ಕಂಡುಹಿಡಿಯಿರಿ.
23. ಇಂಗ್ಲಿಷ್ ವರ್ಣಮಾಲೆಯ ಅಕ್ಷರಗಳಿಂದ

A	B	C	D	E	I
---	---	---	---	---	---

 ಗಳನ್ನು ಒಂದು ಘನಾಕೃತಿಯ ದಾಳದ ಮುಖಗಳ ಮೇಲೆ ಗುರುತಿಸಿದೆ. ಈ ದಾಳವನ್ನು ಒಂದು ಬಾರಿ ಉರುಳಿಸಿದಾಗ ಮೇಲೆ ಬರುವ ಮುಖದಲ್ಲಿ ಸ್ವರಾಕ್ಷರ (Vowel) ಬರುವ ಸಂಭವನೀಯತೆಯನ್ನು ಕಂಡುಹಿಡಿಯಿರಿ.

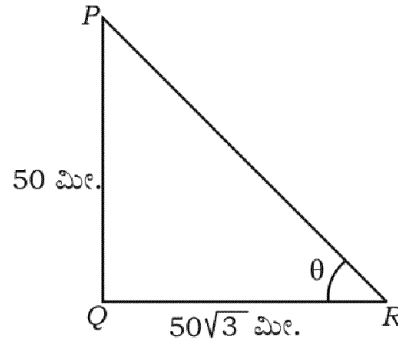
ಅಥವಾ

ಒಂದು ಅವಕಾಶದ ಆಟದಲ್ಲಿ ಒಂದು ಸೂಚಕವು ಚಕ್ರಾಕಾರವಾಗಿ ತಿರುಗಿ 1, 2, 3, 4, 5, 6, 7, 8 ಈ ಅಂಕಗಳಲ್ಲಿ ಯಾವುದಾದರೊಂದು ಅಂಕಿಯನ್ನು ಸೂಚಿಸುವಂತೆ ನಿಶ್ಚಲವಾಗುತ್ತದೆ ಮತ್ತು ಇವೆಲ್ಲವೂ ಸಮಾನ ಸಾಧ್ಯತೆಗಳನ್ನು ಹೊಂದಿದೆ. ಸೂಚಕವು ಸೂಚಿಸುವ ಸಂಖ್ಯೆ ಒಂದು ಬೆಸ ಸಂಖ್ಯೆ ಆಗಿರುವ ಸಂಭವನೀಯತೆಯನ್ನು ಕಂಡುಹಿಡಿಯಿರಿ.



24. 4 ಸೆಂ.ಮೀ. ತ್ರಿಜ್ಯವುಳ್ಳ ವೃತ್ತವನ್ನು ರಚಿಸಿ, ಎರಡು ಸ್ಪರ್ಶಕಗಳ ನಡುವಿನ ಕೋನ 60° ಇರುವಂತೆ ವೃತ್ತಕ್ಕೆ ಒಂದು ಜೊತೆ ಸ್ಪರ್ಶಕಗಳನ್ನು ರಚಿಸಿ.

25. 25 ಮತ್ತು 7 ನ್ನು ಯೂಕ್ಲಿಡ್‌ನ ಭಾಗಾಕಾರ ಕ್ರಮವಿಧಿಯಂತೆ ವ್ಯಕ್ತಪಡಿಸಿ ಭಾಗಲಬ್ಧ ಹಾಗೂ ಶೇಷವನ್ನು ಕಂಡುಹಿಡಿಯಿರಿ.
26. 3 ರಿಂದ ಭಾಗವಾಗುವ ಎರಡು ಅಂಕಗಳ ಸಂಖ್ಯೆಯನ್ನು ಕಂಡುಹಿಡಿಯಿರಿ.
27. $p(x) = 2x^2 + 3x + 1$ ನ್ನು $g(x) = x + 2$ ರಿಂದ ಭಾಗಿಸಿದಾಗ ದೊರಕುವ ಭಾಗಲಬ್ಧ ಮತ್ತು ಶೇಷವನ್ನು ಕಂಡುಹಿಡಿಯಿರಿ.
28. 50 ಮೀ. ಎತ್ತರದ ಕಟ್ಟಡದ ಮೇಲಿರುವ ಒಂದು ವಸ್ತುವನ್ನು ಕಟ್ಟಡದ ಪಾದದಿಂದ $50\sqrt{3}$ ಮೀ. ದೂರದಲ್ಲಿರುವ R ಬಿಂದುವಿನಿಂದ ವೀಕ್ಷಿಸಿದಾಗ ಉಂಟಾಗುವ ಉನ್ನತ ಕೋನವನ್ನು ಕಂಡುಹಿಡಿಯಿರಿ.



29. $(+12, +5)$ ಬಿಂದುವಿಗೆ
 (a) x -ಅಕ್ಷದಿಂದ
 (b) y -ಅಕ್ಷದಿಂದ ಇರುವ ದೂರವನ್ನು ಕಂಡುಹಿಡಿಯಿರಿ.
30. ಎರಡು ನಾಣ್ಯಗಳನ್ನು ಜೊತೆಯಾಗಿ ಚಿಮ್ಮಲಾಗಿದೆ. ಕನಿಷ್ಠ ಒಂದು ಪುಚ್ಚವನ್ನು ಪಡೆಯುವ ಸಂಭವನೀಯತೆಯನ್ನು ಕಂಡುಹಿಡಿಯಿರಿ.
31. 6 ಸೆ.ಮೀ. ಉದ್ದವಿರುವ ಒಂದು ರೇಖಾಖಂಡವನ್ನು ಎಳೆಯಿರಿ. ಅದನ್ನು 2 : 3 ಅನುಪಾತದಲ್ಲಿ ವಿಭಾಗಿಸಿ.
32. 4 ಸೆ.ಮೀ. ತ್ರಿಜ್ಯವುಳ್ಳ ಒಂದು ವೃತ್ತವನ್ನು ಎಳೆಯಿರಿ. ಇದರ ಕೇಂದ್ರದಿಂದ 10 ಸೆ.ಮೀ. ದೂರದಲ್ಲಿರುವ ಒಂದು ಬಾಹ್ಯ ಬಿಂದುವಿನಿಂದ ವೃತ್ತಕ್ಕೆ ಒಂದು ಜೊತೆ ಸ್ಪರ್ಶಕಗಳನ್ನು ರಚಿಸಿ.
33. ಒಂದು ವೃತ್ತದ ಸುತ್ತಲೆ ಮತ್ತು ಅದರ ವಿಸ್ತೀರ್ಣವು ಸಾಂಖ್ಯಿಕವಾಗಿ ಸಮನಾಗಿದ್ದರೆ ಆ ವೃತ್ತದ ತ್ರಿಜ್ಯವನ್ನು ಕಂಡುಹಿಡಿಯಿರಿ.
34. ಒಂದು ಅರ್ಧಗೋಳಾಕಾರದ ಬಟ್ಟಲಿನ ಒಳತ್ರಿಜ್ಯವು 18 ಸೆ.ಮೀ. ಆಗಿದ್ದು ಅದರ ತುಂಬ ಹಣ್ಣಿನ ರಸವಿದೆ. ಈ ರಸವನ್ನು 3 ಸೆ.ಮೀ. ತ್ರಿಜ್ಯ ಮತ್ತು 9 ಸೆ.ಮೀ. ಎತ್ತರವಿರುವ ಸಿಲಿಂಡರಿನಾಕೃತಿಯ ಬಾಟಲಿಗಳಿಗೆ ತುಂಬಬೇಕು. ಬಟ್ಟಲನ್ನು ಖಾಲಿ ಮಾಡಲು ಎಷ್ಟು ಬಾಟಲಿಗಳ ಅವಶ್ಯಕತೆ ಇದೆ ಎಂಬುದನ್ನು ಕಂಡುಹಿಡಿಯಿರಿ.

IV. ಈ ಕೆಳಗಿನ ಪ್ರಶ್ನೆಗಳಿಗೆ ಉತ್ತರಿಸಿ :

9 × 3 = 27

35. $\sqrt{3}$ ಒಂದು ಅಭಾಗಲಬ್ಧ ಸಂಖ್ಯೆ ಎಂದು ಸಾಧಿಸಿ.

ಅಥವಾ

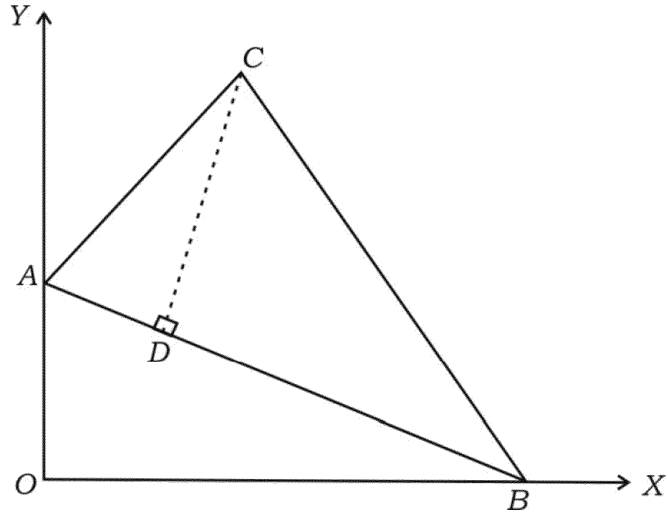
ಮ.ಸಾ.ಅ. (306, 657) ಮತ್ತು 12 ಇವುಗಳ ಲ.ಸಾ.ಅ. ಕಂಡುಹಿಡಿಯಿರಿ.

36. ಒಂದು ಆಯತಾಕಾರದ ಆಟದ ಮೈದಾನದ ಕರ್ಣವು ಅದರ ಚಿಕ್ಕ ಬಾಹುವಿಗಿಂತ 60 ಮೀ. ಹೆಚ್ಚಾಗಿದೆ ಮತ್ತು ಅದರ ದೊಡ್ಡ ಬಾಹುವು ಚಿಕ್ಕ ಬಾಹುವಿಗಿಂತ 30 ಮೀ. ಹೆಚ್ಚಾಗಿದ್ದರೆ, ಆಟದ ಮೈದಾನದ ಬಾಹುಗಳ ಉದ್ದವನ್ನು ಕಂಡುಹಿಡಿಯಿರಿ.

ಅಥವಾ

ಒಂದು ತ್ರಿಭುಜದ ಎತ್ತರವು ಅದರ ಪಾದಕ್ಕಿಂತ 6 ಸೆ.ಮೀ. ಹೆಚ್ಚಾಗಿದೆ. ತ್ರಿಭುಜದ ವಿಸ್ತೀರ್ಣವು 108 ಚ.ಸೆ.ಮೀ. ಆದಾಗ ತ್ರಿಭುಜದ ಪಾದ ಮತ್ತು ಎತ್ತರಗಳನ್ನು ಕಂಡುಹಿಡಿಯಿರಿ.

37. ಚಿತ್ರದಲ್ಲಿ ΔABC ಯ ಶೃಂಗಗಳು $A (0, 6)$, $B (8, 0)$ ಮತ್ತು $C (5, 8)$ ಆಗಿವೆ. $CD \perp AB$ ಆದಾಗ ಆ ತ್ರಿಭುಜದ ಎತ್ತರ CD ಯ ಉದ್ದವನ್ನು ಕಂಡುಹಿಡಿಯಿರಿ.



ಅಥವಾ

ಒಂದು ತ್ರಿಭುಜದ ಶೃಂಗಗಳು $A (8, -4)$, $B (9, 5)$ ಮತ್ತು $C (0, 4)$ ಆಗಿದ್ದಾಗ, ಅದು ಸಮದ್ವಿಬಾಹು ತ್ರಿಭುಜವಾಗಿರುತ್ತದೆ ಎಂದು ತೋರಿಸಿ.

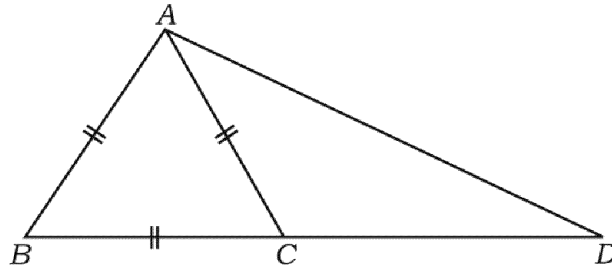
38. ಈ ಕೆಳಗಿನ ಆವೃತ್ತಿ ವಿತರಣಾ ಕೋಷ್ಟಕಕ್ಕೆ ಬಹುಲಕವನ್ನು ಕಂಡುಹಿಡಿಯಿರಿ :

ವರ್ಗಾಂತರ	ಆವೃತ್ತಿ (f_i)
0 — 5	8
5 — 10	9
10 — 15	5
15 — 20	3
20 — 25	1
	$\Sigma f_i = 26$

39. ಒಬ್ಬ ವಿಮಾ ಪಾಲಿಸಿ ಏಜೆಂಟನು ಪಡೆದ 35 ಪಾಲಿಸಿದಾರರ ವಯಸ್ಸುಗಳ ವಿತರಣೆಯ ದತ್ತಾಂಶಗಳು ಕೆಳಗಿನಂತೆ ಇವೆ. ಈ ದತ್ತಾಂಶಗಳಿಗೆ 'ಕಡಿಮೆ ವಿಧಾನ'ದ ಓಜೀವ್ ರಚಿಸಿ :

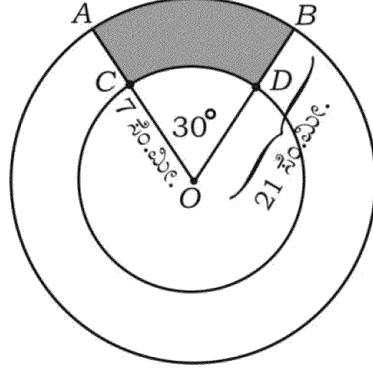
ವಯಸ್ಸು (ವರ್ಷಗಳಲ್ಲಿ)	ಪಾಲಿಸಿದಾರರ ಸಂಖ್ಯೆ
20 ಕ್ಕಿಂತ ಕಡಿಮೆ	2
25 ಕ್ಕಿಂತ ಕಡಿಮೆ	6
30 ಕ್ಕಿಂತ ಕಡಿಮೆ	12
35 ಕ್ಕಿಂತ ಕಡಿಮೆ	16
40 ಕ್ಕಿಂತ ಕಡಿಮೆ	20
45 ಕ್ಕಿಂತ ಕಡಿಮೆ	25
50 ಕ್ಕಿಂತ ಕಡಿಮೆ	35

40. ΔABD ಯಲ್ಲಿ $BC : CD = 1 : 2$ ಆಗುವಂತೆ BD ಯ ಮೇಲೆ C ಯು ಒಂದು ಬಿಂದು ಮತ್ತು ΔABC ಯು ಸಮಬಾಹು ತ್ರಿಭುಜವಾಗಿದ್ದರೆ $AD^2 = 7AC^2$ ಎಂದು ಸಾಧಿಸಿ.



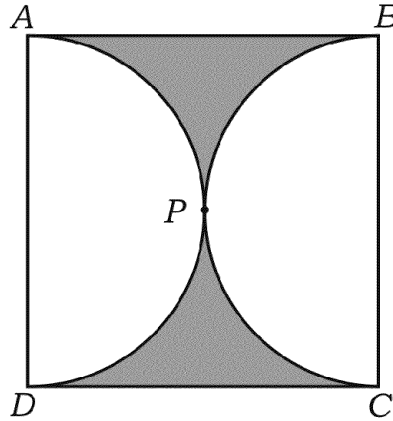
PR (C) - # 41014

41. “ಬಾಹ್ಯ ಬಿಂದುವಿನಿಂದ ವೃತ್ತಕ್ಕೆ ಎಳೆದ ಸ್ಪರ್ಶಕಗಳ ಉದ್ದವು ಸಮನಾಗಿರುತ್ತದೆ” ಎಂದು ಸಾಧಿಸಿ.
42. ತ್ರಿಜ್ಯಗಳು 21 ಸೆ.ಮೀ. ಮತ್ತು 7 ಸೆ.ಮೀ. ಆಗಿರುವ ‘O’ ಕೇಂದ್ರವುಳ್ಳ ಎರಡು ಏಕಕೇಂದ್ರಿಯ ವೃತ್ತಗಳ ಕಂಸಗಳು ಕ್ರಮವಾಗಿ AB ಮತ್ತು CD ಆಗಿವೆ. ಚಿತ್ರದಲ್ಲಿ ತೋರಿಸಿರುವಂತೆ $\angle AOB = 30^\circ$ ಆದಾಗ ಛಾಯೆಗೊಳಿಸಿದ ಭಾಗದ ವಿಸ್ತೀರ್ಣವನ್ನು ಕಂಡುಹಿಡಿಯಿರಿ.



ಅಥವಾ

ABCD ಚೌಕದಲ್ಲಿ ಎರಡು ಅರ್ಧವೃತ್ತಗಳು ಒಂದನ್ನೊಂದು P ಬಿಂದುವಿನಲ್ಲಿ ಚಿತ್ರದಲ್ಲಿ ತೋರಿಸಿರುವಂತೆ ಬಾಹ್ಯವಾಗಿ ಸ್ಪರ್ಶಿಸಿವೆ. ಈ ಪ್ರತಿಯೊಂದು ಅರ್ಧವೃತ್ತದ ಕಂಸದ ಉದ್ದ 11 ಸೆ.ಮೀ.ಗೆ ಸಮನಾದಾಗ ಛಾಯೆಗೊಳಿಸಿದ ಭಾಗದ ವಿಸ್ತೀರ್ಣವನ್ನು ಕಂಡುಹಿಡಿಯಿರಿ.



43. 6 ಸೆ.ಮೀ., 7 ಸೆ.ಮೀ. ಮತ್ತು 8 ಸೆ.ಮೀ. ಬಾಹುಗಳಿರುವ ಒಂದು ತ್ರಿಭುಜವನ್ನು ರಚಿಸಿ. ನಂತರ ಮತ್ತೊಂದು ತ್ರಿಭುಜವನ್ನು ಅದರ ಪ್ರತಿಯೊಂದು ಬಾಹುವು ಮೊದಲು ರಚಿಸಿದ ತ್ರಿಭುಜದ ಅನುರೂಪ ಬಾಹುಗಳ $\frac{3}{4}$ ರಷ್ಟಿರುವಂತೆ ರಚಿಸಿ.

V. ಈ ಕೆಳಗಿನ ಪ್ರಶ್ನೆಗಳಿಗೆ ಉತ್ತರಿಸಿ :

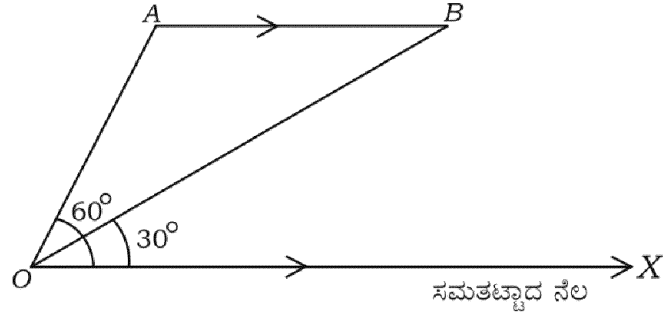
4 × 4 = 16

44. ಕೊಟ್ಟಿರುವ ರೇಖಾತ್ಮಕ ಸಮೀಕರಣಗಳ ಜೋಡಿಗೆ ನಕ್ಷೆಯ ವಿಧಾನದಿಂದ ಪರಿಹಾರವನ್ನು ಕಂಡುಹಿಡಿಯಿರಿ :

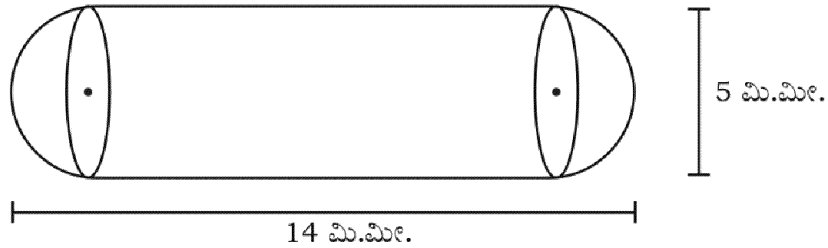
$$2x + y = 8$$

$$x + y = 5$$

45. ಸಮತಟ್ಟಾದ ನೆಲಕ್ಕೆ ಸಮಾಂತರವಾಗಿ ಆಕಾಶದಲ್ಲಿ A ಬಿಂದುವಿನಿಂದ B ಬಿಂದುವಿನ ಮೂಲಕ ಹಾರುತ್ತಿರುವ ಒಂದು ವಿಮಾನವನ್ನು ನೆಲದ ಮೇಲಿನ ಒಂದು ಬಿಂದುವಿನಿಂದ ವೀಕ್ಷಿಸಿದಾಗ A ಬಿಂದುವಿಗೆ ಉಂಟಾಗುವ ಉನ್ನತ ಕೋನವು 60° ಆಗಿದೆ. 10 ಸೆಕೆಂಡುಗಳ ನಂತರ ಇದೇ ವಿಮಾನವು B ಗೆ ತಲುಪಿದಾಗ ಉಂಟಾಗುವ ಉನ್ನತ ಕೋನವು 30° ಆಗಿರುತ್ತದೆ. ವಿಮಾನದ ವೇಗವು 648 ಕಿ.ಮೀ./ಗಂಟೆ ಆಗಿದ್ದಾಗ ನೆಲದ ಮೇಲಿನಿಂದ ಎಷ್ಟು ಎತ್ತರದಲ್ಲಿ ವಿಮಾನವು ಹಾರುತ್ತಿದೆ ಎಂಬುದನ್ನು ಕಂಡುಹಿಡಿಯಿರಿ. ($\sqrt{3} = 1.73$ ಎಂದು ಉಪಯೋಗಿಸಿ)



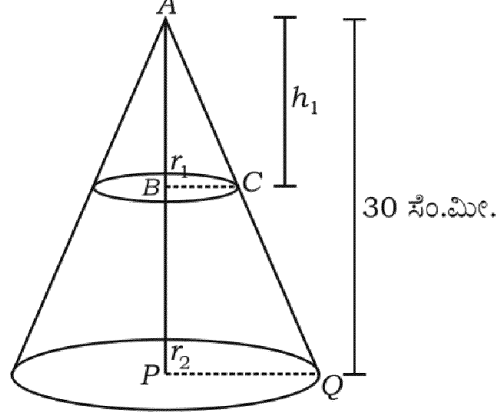
46. “ಎರಡು ತ್ರಿಭುಜಗಳಲ್ಲಿ ಅನುರೂಪ ಕೋನಗಳು ಸಮವಾದರೆ ಅವುಗಳ ಅನುರೂಪಬಾಹುಗಳ ಅನುಪಾತಗಳು ಸಮ (ಅಥವಾ ಸಮಾನುಪಾತದಲ್ಲಿರುತ್ತದೆ). ಆದ್ದರಿಂದ ಆ ತ್ರಿಭುಜಗಳು ಸಮರೂಪವಾಗಿರುತ್ತವೆ” ಎಂದು ಸಾಧಿಸಿ.
47. ಒಂದು ಔಷಧ ಕ್ಯಾಪ್ಸೂಲ್‌ನ ಆಕಾರವು ಒಂದು ಸಿಲಿಂಡರಿನ ಪ್ರತಿಪಾದಗಳಲ್ಲಿ ಒಂದೊಂದು ಅರ್ಧಗೋಳವನ್ನು ಅಂಟಿಸಿ ಮಾಡಿದೆ. ಕ್ಯಾಪ್ಸೂಲ್‌ನ ಸಂಪೂರ್ಣ ಉದ್ದವು 14 ಮಿ.ಮೀ. ಮತ್ತು ಅದರ ವ್ಯಾಸವು 5 ಮಿ.ಮೀ. ಇದೆ. ಅದರ ಮೇಲ್ಮೈ ವಿಸ್ತೀರ್ಣವನ್ನು ಕಂಡುಹಿಡಿಯಿರಿ.



ಅಥವಾ

PR (C) - # 41014

ಒಂದು ನೇರ ವೃತ್ತಪಾದ ಶಂಕುವಿನ ಎತ್ತರವು 30 ಸೆ.ಮೀ. ಆಗಿದೆ. ಈ ಶಂಕುವನ್ನು ಅದರ ಪಾದಕ್ಕೆ ಸಮಾನಾಂತರವಾಗಿ ಅದರ ಶೃಂಗ ಬಿಂದುವಿನಿಂದ ಕೆಳಗೆ ಒಂದು ಸಮತಲದಿಂದ ಕತ್ತರಿಸಿ ತೆಗೆಯಲಾಗಿದೆ. ಈ ಶಂಕುವಿನ ಘನಫಲವು ದತ್ತ ಶಂಕುವಿನ ಘನಫಲದ $\frac{1}{27}$ ರಷ್ಟಕ್ಕೆ ಸಮನಾಗಿದ್ದರೆ, ಶಂಕುವಿನ ಉಳಿದ ಭಾಗದ ಎತ್ತರವನ್ನು ಕಂಡುಹಿಡಿಯಿರಿ.



VI. ಈ ಕೆಳಗಿನ ಪ್ರಶ್ನೆಗೆ ಉತ್ತರಿಸಿ :

1 × 5 = 5

48. ಸಾಮಾನ್ಯ ವ್ಯತ್ಯಾಸವು ಸಮನಾಗಿರುವ ಎರಡು ವಿಭಿನ್ನ ಸಮಾಂತರ ಶ್ರೇಣಿಗಳಲ್ಲಿ ಮೊದಲನೇ ಶ್ರೇಣಿಯ ಮೊದಲನೇ ಪದವು ಎರಡನೇ ಶ್ರೇಣಿಯ ಮೊದಲನೇ ಪದಕ್ಕಿಂತ 3 ಹೆಚ್ಚಾಗಿದೆ. ಮೊದಲನೇ ಶ್ರೇಣಿಯ 7ನೇ ಪದವು 28 ಮತ್ತು ಎರಡನೇ ಶ್ರೇಣಿಯ 8 ನೇ ಪದವು 29 ಆದಾಗ ಆ ಎರಡು ವಿಭಿನ್ನ ಸಮಾಂತರ ಶ್ರೇಣಿಗಳನ್ನು ಕಂಡುಹಿಡಿಯಿರಿ.

