

A

SL. No. : E

ಒಟ್ಟು ಪ್ರಶ್ನೆಗಳ ಸಂಖ್ಯೆ : 40]

Total No. of Questions : 40]

ಸಂಕೇತ ಸಂಖ್ಯೆ : **81-K****CCE RR
REVISED**

[ಒಟ್ಟು ಮುದ್ರಿತ ಪುಟಗಳ ಸಂಖ್ಯೆ : 12

[Total No. of Printed Pages : 12

Code No. : 81-K

ಇಲ್ಲಿಂದ ಕತ್ತರಿಸಿ

ವಿಷಯ : ಗಣಿತ**Subject : MATHEMATICS**

(ಕನ್ನಡ ಭಾಷಾಂತರ / Kannada Version)

(ಹೊಸ ಪಠ್ಯಕ್ರಮ / New Syllabus)

(ಪುನರಾವರ್ತಿತ ಶಾಲಾ ಅಭ್ಯರ್ಥಿ / Regular Repeater)

ದಿನಾಂಕ : 21. 06. 2019]

[Date : 21. 06. 2019

ಸಮಯ : ಬೆಳಿಗ್ಗೆ 9-30 ರಿಂದ ಮಧ್ಯಾಹ್ನ 12-30 ರವರೆಗೆ]

[Time : 9-30 A.M. to 12-30 P.M.

ಗರಿಷ್ಠ ಅಂಕಗಳು : 80]

[Max. Marks : 80

ಪರೀಕ್ಷಾರ್ಥಿಗಾಗಿ ಸಾಮಾನ್ಯ ಸೂಚನೆಗಳು :

1. ಈ ಪ್ರಶ್ನೆಪತ್ರಿಕೆಯು 40 ವಸ್ತುನಿಷ್ಠ ಮತ್ತು ವಿಷಯನಿಷ್ಠ ಮಾದರಿಯ ಪ್ರಶ್ನೆಗಳನ್ನು ಹೊಂದಿದೆ.
2. ಈ ಪ್ರಶ್ನೆಪತ್ರಿಕೆಯನ್ನು ಹಿಮ್ಮುಖ ಜಾಕೆಟ್ ಮೂಲಕ ಮೊಹರು (ಸೀಲ್) ಮಾಡಲಾಗಿದೆ. ಪರೀಕ್ಷೆ ಪ್ರಾರಂಭವಾಗುವ ಸಮಯಕ್ಕೆ ನಿಮ್ಮ ಪ್ರಶ್ನೆಪತ್ರಿಕೆಯ ಬಲಬದಿ ಪಾರ್ಶ್ವವನ್ನು ಕತ್ತರಿಸಿ, ಪ್ರಶ್ನೆಪತ್ರಿಕೆಯಲ್ಲಿ ಎಲ್ಲಾ ಪುಟಗಳು ಇವೆಯೇ ಎಂದು ಪರೀಕ್ಷಿಸಿಕೊಳ್ಳಿ.
3. ವಸ್ತುನಿಷ್ಠ ಮತ್ತು ವಿಷಯನಿಷ್ಠ ಮಾದರಿಯ ಪ್ರಶ್ನೆಗಳಿಗೆ ಕೊಟ್ಟಿರುವ ಸೂಚನೆಗಳನ್ನು ಪಾಲಿಸಿ.
4. ಬಲ ಭಾಗದಲ್ಲಿ ಕೊಟ್ಟಿರುವ ಅಂಕಗಳು ಪ್ರಶ್ನೆಗಳಿಗಿರುವ ಪೂರ್ಣ ಅಂಕಗಳನ್ನು ತೋರಿಸುತ್ತದೆ.
5. ಪ್ರಶ್ನೆಪತ್ರಿಕೆಯನ್ನು ಓದಿಕೊಳ್ಳಲು 15 ನಿಮಿಷಗಳ ಕಾಲಾವಕಾಶವು ಸೇರಿದಂತೆ, ಉತ್ತರಿಸಲು ನಿಗದಿಪಡಿಸಲಾದ ಸಮಯವನ್ನು ಪ್ರಶ್ನೆಪತ್ರಿಕೆಯ ಮೇಲ್ಭಾಗದಲ್ಲಿ ನೀಡಲಾಗಿದೆ.

TEAR HERE TO OPEN THE QUESTION PAPER

ಪ್ರಶ್ನೆಪತ್ರಿಕೆಯನ್ನು ತೆರೆಯಲು ಇಲ್ಲಿ ಕತ್ತರಿಸಿ

Tear here



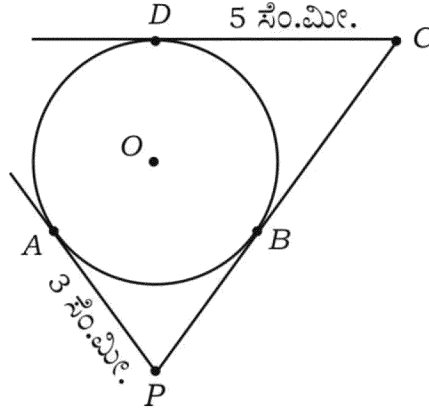
* (21)501-RR(A)

[Turn over

- I. ಈ ಕೆಳಗಿನ ಪ್ರಶ್ನೆಗಳಿಗೆ ಅಥವಾ ಅಪೂರ್ಣ ಹೇಳಿಕೆಗಳಿಗೆ ನಾಲ್ಕು ಪರ್ಯಾಯ ಉತ್ತರಗಳನ್ನು ನೀಡಲಾಗಿದೆ. ಅವುಗಳಲ್ಲಿ ಸೂಕ್ತವಾದ ಉತ್ತರವನ್ನು ಆರಿಸಿ, ಕ್ರಮಾಕ್ಷರದೊಡನೆ ಪೂರ್ಣ ಉತ್ತರವನ್ನು ಬರೆಯಿರಿ :

$$8 \times 1 = 8$$

- ಒಂದು ಸಮಾಂತರ ಶ್ರೇಣಿಯ n ನೇ ಪದ $5n + 3$ ಆದಾಗ ಸಮಾಂತರ ಶ್ರೇಣಿಯ 3ನೇ ಪದವು
 - 11
 - 18
 - 12
 - 13
- ಚಿತ್ರದಲ್ಲಿ 'O' ಕೇಂದ್ರವುಳ್ಳ ವೃತ್ತಕ್ಕೆ PA, PC ಮತ್ತು CD ಗಳು ಸ್ಪರ್ಶಕಗಳಾಗಿವೆ. $AP = 3$ ಸೆ.ಮೀ., $CD = 5$ ಸೆ.ಮೀ. ಆದಾಗ PC ಯ ಉದ್ದವು,



- 3 ಸೆ.ಮೀ.
 - 5 ಸೆ.ಮೀ.
 - 8 ಸೆ.ಮೀ.
 - 2 ಸೆ.ಮೀ.
- $a_1x + b_1y + c_1 = 0$ ಹಾಗೂ $a_2x + b_2y + c_2 = 0$ ರೂಪದ ರೇಖಾತ್ಮಕ ಸಮೀಕರಣಗಳಿಗೆ ಎಳೆದ ರೇಖೆಗಳು ಪರಸ್ಪರ ಐಕ್ಯಗೊಂಡರೆ ಈ ಕೆಳಗಿನವುಗಳಲ್ಲಿ ಸರಿಯಾದ ಸಂಬಂಧವು
 - $\frac{a_1}{a_2} = \frac{b_1}{b_2} = \frac{c_1}{c_2}$
 - $\frac{a_1}{a_2} \neq \frac{b_1}{b_2} \neq \frac{c_1}{c_2}$
 - $\frac{a_1}{a_2} = \frac{b_1}{b_2} \neq \frac{c_1}{c_2}$
 - $\frac{a_1}{a_2} \neq \frac{b_1}{b_2} = \frac{c_1}{c_2}$
 - ಮೂಲಬಿಂದು ಮತ್ತು (x, y) ನಿರ್ದೇಶಾಂಕಗಳ ನಡುವಿನ ದೂರವು
 - $x^2 + y^2$
 - $\sqrt{x^2 - y^2}$
 - $x^2 - y^2$
 - $\sqrt{x^2 + y^2}$



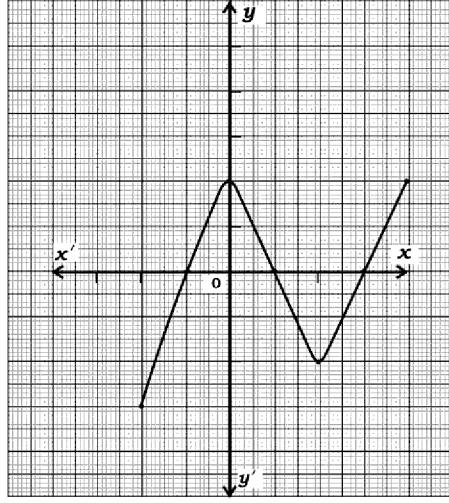
5. 72 ಮತ್ತು 120 ರ ಮ.ಸಾ.ಅ. 24 ಆದರೆ, ಅವುಗಳ ಲ.ಸಾ.ಅ.

- (A) 36 (B) 720
(C) 360 (D) 72

6. $\sin 30^\circ + \cos 60^\circ$ ಯ ಬೆಲೆಯು

- (A) $\frac{1}{2}$ (B) $\frac{3}{2}$
(C) $\frac{1}{4}$ (D) 1

7. ಕೊಟ್ಟಿರುವ ನಕ್ಷೆ $y = P(x)$ ನಲ್ಲಿ ಶೂನ್ಯತೆಗಳ ಸಂಖ್ಯೆಯು



- (A) 4 (B) 3
(C) 2 (D) 7

8. 1 ರಿಂದ 6 ರವರೆಗಿನ ಸಂಖ್ಯೆಗಳನ್ನು ಹೊಂದಿರುವ ಒಂದು ಘನಾಕೃತಿಯ ದಾಳವನ್ನು ಒಂದು ಬಾರಿ ಉರುಳಿಸಿದಾಗ, ಬೆಸ ಸಂಖ್ಯೆ ಮೇಲೆ ಬರುವ ಸಂಭವನೀಯತೆಯು,

- (A) $\frac{3}{6}$ (B) $\frac{1}{6}$
(C) $\frac{2}{6}$ (D) $\frac{4}{6}$

II. ಈ ಕೆಳಗಿನವುಗಳನ್ನು ಉತ್ತರಿಸಿ :

6 × 1 = 6

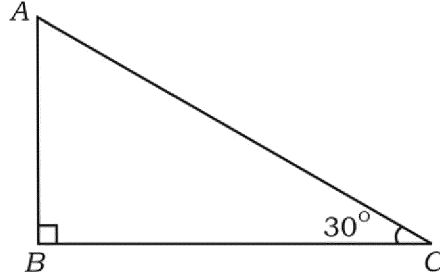
9. ಒಂದು ಸಮಾಂತರ ಶ್ರೇಣಿಯ ಮೊದಲನೇ ಪದವು 'a' ಮತ್ತು ಕೊನೆಯ ಪದವು 'a_n' ಆದಾಗ, ಆ ಶ್ರೇಣಿಯ ಮೊದಲ 'n' ಪದಗಳವರೆಗಿನ ಮೊತ್ತವನ್ನು ಕಂಡುಹಿಡಿಯುವ ಸೂತ್ರವನ್ನು ಬರೆಯಿರಿ.



❁ (21)501-RR(A)

[Turn over

10. ಎರಡು ರೇಖಾತ್ಮಕ ಸಮೀಕರಣಗಳ ಜೋಡಿಗೆ ಪರಿಹಾರ ಇರುವುದಿಲ್ಲ (ಅಸ್ಥಿರವಾಗಿದ್ದರೆ). ಆ ಸಮೀಕರಣಗಳನ್ನು ಪ್ರತಿನಿಧಿಸುವ ರೇಖೆಗಳು ಎಂತಹ ರೇಖೆಗಳಾಗಿರುತ್ತದೆ ಎಂದು ಬರೆಯಿರಿ.
11. ವೃತ್ತ ಕೇಂದ್ರದಲ್ಲಿ ಉಂಟಾದ ಕೋನವು 'θ' ಡಿಗ್ರಿಯಾದಾಗ ತ್ರಿಜ್ಯಾಂತರ ಖಂಡದ ವಿಸ್ತೀರ್ಣವನ್ನು ಕಂಡುಹಿಡಿಯುವ ಸೂತ್ರವನ್ನು ಬರೆಯಿರಿ.
12. 96 ನ್ನು ಅವುಗಳ ಅವಿಭಾಜ್ಯ ಅಪವರ್ತನಗಳಾಗಿ ಬರೆಯಿರಿ.
13. $P(x) = x^3 + 2x^2 - 5x - 6$ ಈ ಬಹುಪದೋಕ್ತಿಯ ಮಹತ್ತಮ ಘಾತ (ಡಿಗ್ರಿ)ವನ್ನು ಬರೆಯಿರಿ.
14. ತ್ರಿಭುಜ ABC ಯಲ್ಲಿ $\angle ABC = 90^\circ$ ಮತ್ತು $\angle ACE = 30^\circ$ ಆದಾಗ, $AB : AC$ ಯನ್ನು ಕಂಡುಹಿಡಿಯಿರಿ.



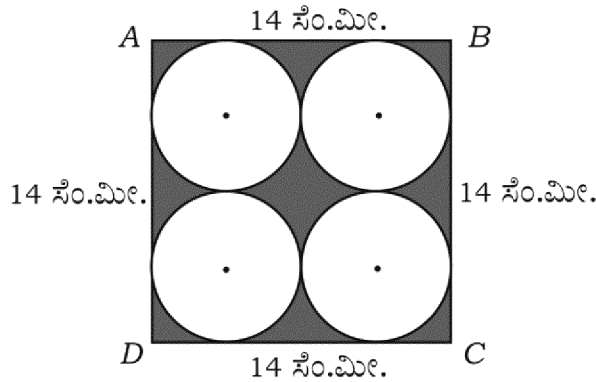
III. ಈ ಕೆಳಗಿನವುಗಳನ್ನು ಉತ್ತರಿಸಿ :

15. ಈ ರೇಖಾತ್ಮಕ ಸಮೀಕರಣಗಳ ಜೋಡಿಗೆ ಪರಿಹಾರವನ್ನು ಕಂಡುಹಿಡಿಯಿರಿ : 2

$$x + y = 14$$

$$x - y = 4$$

16. ABCD ಯು 14 ಸೆ.ಮೀ. ಬಾಹುವಿರುವ ಒಂದು ಚೌಕ. ಚಿತ್ರದಲ್ಲಿ ತೋರಿಸಿರುವಂತೆ ಇದರಲ್ಲಿ ನಾಲ್ಕು ಸರ್ವಸಮ ವೃತ್ತಗಳನ್ನು ರಚಿಸಲಾಗಿದೆ. ಹಾಗಾದರೆ ಛಾಯೆಗೊಳಿಸಿದ ವಲಯದ ವಿಸ್ತೀರ್ಣವನ್ನು ಕಂಡುಹಿಡಿಯಿರಿ. (ವೃತ್ತಗಳು ಒಂದನ್ನೊಂದು ಬಾಹ್ಯವಾಗಿ ಸ್ಪರ್ಶಿಸುತ್ತದೆ ಮತ್ತು ಚೌಕದ ಬಾಹುಗಳನ್ನು ಸ್ಪರ್ಶಿಸುತ್ತವೆ.) 2

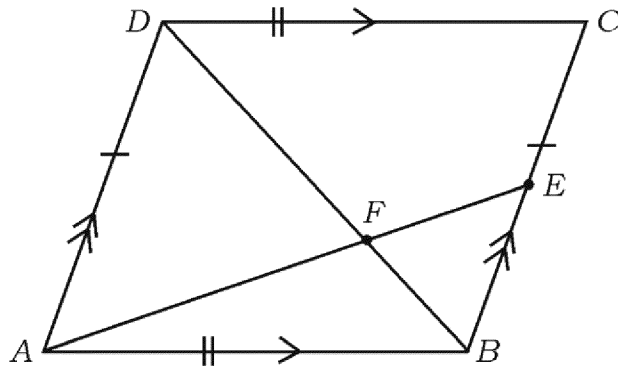


17. $(2, 3)$ ಮತ್ತು $(4, 1)$ ಬಿಂದುಗಳ ನಡುವಿನ ದೂರವನ್ನು ಕಂಡುಹಿಡಿಯಿರಿ. 2
18. ಶೃಂಗ ಬಿಂದುಗಳು $(1, -1)$, $(-4, 6)$ ಮತ್ತು $(-3, -5)$ ಆಗಿರುವ ತ್ರಿಭುಜದ ವಿಸ್ತೀರ್ಣವನ್ನು ಕಂಡುಹಿಡಿಯಿರಿ. 2
19. $5 + \sqrt{3}$ ಒಂದು ಅಭಾಗಲಬ್ಧ ಸಂಖ್ಯೆ ಎಂದು ಸಾಧಿಸಿ. 2
20. $\Delta ABC \sim \Delta DEF$ ಮತ್ತು ಅವುಗಳ ವಿಸ್ತೀರ್ಣಗಳು ಕ್ರಮವಾಗಿ 64 ಚದರ ಸೆ.ಮೀ. ಮತ್ತು 100 ಚದರ ಸೆ.ಮೀ.ಗಳಾಗಿದ್ದು, $EF = 12$ ಸೆ.ಮೀ. ಆದಾಗ BC ಯ ಅಳತೆಯನ್ನು ಕಂಡುಹಿಡಿಯಿರಿ. 2

ಅಥವಾ

6 ಮೀಟರ್ ಎತ್ತರದ ನೇರವಾದ ಕಂಬವು ನೆಲದ ಮೇಲೆ 4 ಮೀಟರ್ ಉದ್ದದ ನೆರಳನ್ನು ಉಂಟುಮಾಡುತ್ತದೆ. ಅದೇ ಸಮಯದಲ್ಲಿ ಅದೇ ನೆಲದ ಮೇಲಿನ ಒಂದು ಕಟ್ಟಡವು 28 ಮೀಟರ್ ಉದ್ದದ ನೆರಳನ್ನು ಉಂಟುಮಾಡಿದರೆ, ಆ ಕಟ್ಟಡದ ಎತ್ತರವನ್ನು ಕಂಡುಹಿಡಿಯಿರಿ.

21. ಚಿತ್ರದಲ್ಲಿ ತೋರಿಸಿರುವಂತೆ $ABCD$ ಒಂದು ಸಮಾಂತರ ಚತುರ್ಭುಜ. BC ಯ ಮೇಲೆ 'E' ಒಂದು ಬಿಂದು, ಕರ್ಣ BD ಯು AE ಯನ್ನು 'F' ನಲ್ಲಿ ಛೇದಿಸುತ್ತದೆ. ಹಾಗಾದರೆ $DF \times EF = FB \times FA$ ಎಂದು ಸಾಧಿಸಿ. 2



22. ಒಂದು ವರ್ಗ ಬಹುಪದೋಕ್ತಿ $P(x) = ax^2 + bx - 4$ ರ ಶೂನ್ಯತೆಗಳ ಮೊತ್ತ ಮತ್ತು ಗುಣಲಬ್ಧಗಳು ಕ್ರಮವಾಗಿ $\frac{1}{4}$ ಮತ್ತು -1 ಆಗಿದೆ. ಹಾಗಾದರೆ a ಮತ್ತು b ಗಳ ಬೆಲೆಯನ್ನು ಕಂಡುಹಿಡಿಯಿರಿ. 2

ಅಥವಾ

$P(x) = 2x^2 + 3x + 1$ ನ್ನು $g(x) = x + 2$ ರಿಂದ ಭಾಗಿಸಿದಾಗ ಬರುವ ಭಾಗಲಬ್ಧ ಮತ್ತು ಶೇಷವನ್ನು ಕಂಡುಹಿಡಿಯಿರಿ.

23. k ನ ಯಾವ ಬೆಲೆಗೆ ಬಹುಪದೋಕ್ತಿ $P(x) = x^2 - x - (2k + 2)$ ರ ಒಂದು ಶೂನ್ಯತೆಯು -4 ಆಗಿರುತ್ತದೆ ಎಂದು ಕಂಡುಹಿಡಿಯಿರಿ. 2
24. $x^2 - 3x - 10 = 0$ ಸಮೀಕರಣವನ್ನು ಸೂತ್ರದ ಸಹಾಯದಿಂದ ಬಿಡಿಸಿ. 2
25. $\operatorname{cosec} \theta = \frac{13}{12}$ ಆದರೆ, $\cos \theta$ ದ ಬೆಲೆಯನ್ನು ಕಂಡುಹಿಡಿಯಿರಿ. 2
26. $(\tan A \times \sin A) + \cos A = \sec A$ ಎಂದು ತೋರಿಸಿ. 2
27. 3.5 ಸೆಂ.ಮೀ. ತ್ರಿಜ್ಯದ ಒಂದು ವೃತ್ತಕ್ಕೆ ಸ್ಪರ್ಶಕಗಳ ನಡುವಿನ ಕೋನ 60° ಇರುವಂತೆ ಒಂದು ಜೊತೆ ಸ್ಪರ್ಶಕಗಳನ್ನು ರಚಿಸಿ. 2
28. ಒಂದು ಪೆಟ್ಟಿಗೆಯಲ್ಲಿ 1 ರಿಂದ 90 ರವರೆಗಿನ ಸಂಖ್ಯೆಗಳು ನಮೂದಾಗಿರುವ 90 ಬಿಲ್ಲೆಗಳಿವೆ. ಪೆಟ್ಟಿಗೆಯಿಂದ ಒಂದು ಬಿಲ್ಲೆಯನ್ನು ಯಾದೃಚ್ಛಿಕವಾಗಿ ತೆಗೆದರೆ, ಅದು ಒಂದು ಪೂರ್ಣ ವರ್ಗ ಸಂಖ್ಯೆ ಆಗಿರುವ ಸಂಭವನೀಯತೆಯನ್ನು ಕಂಡುಹಿಡಿಯಿರಿ. 2



29. 9 ಸೆ.ಮೀ. ತ್ರಿಜ್ಯವುಳ್ಳ ಲೋಹದ ಗೋಳವನ್ನು ಕರಗಿಸಿ ಅದನ್ನು 6 ಸೆ.ಮೀ. ತ್ರಿಜ್ಯವಿರುವ ಸಿಲಿಂಡರಿನ ಆಕಾರದಲ್ಲಿ ಮರುರೂಪ ನೀಡಲಾಗಿದೆ. ಹಾಗಾದರೆ ಸಿಲಿಂಡರಿನ ಎತ್ತರವನ್ನು ಕಂಡುಹಿಡಿಯಿರಿ. 2
30. 64 ಸೆ.ಮೀ.³ ಘನಫಲವನ್ನು ಹೊಂದಿರುವ ಎರಡು ವರ್ಗ ಘನಗಳ ಮುಖಗಳನ್ನು ಸೇರಿಸಿ ಒಂದು ಆಯತ ಘನಾಕೃತಿ ಮಾಡಿದೆ. ಈ ಆಯತ ಘನಾಕೃತಿಯ ಪೂರ್ಣ ಮೇಲ್ಮೈ ವಿಸ್ತೀರ್ಣವನ್ನು ಕಂಡುಹಿಡಿಯಿರಿ. 2

IV. ಈ ಕೆಳಗಿನವುಗಳನ್ನು ಉತ್ತರಿಸಿ :

31. “ಬಾಹ್ಯ ಬಿಂದುವಿನಿಂದ ವೃತ್ತಕ್ಕೆ ಎಳೆದ ಸ್ಪರ್ಶಕಗಳ ಉದ್ದವು ಸಮನಾಗಿರುತ್ತದೆ.” ಎಂದು ಸಾಧಿಸಿ. 3

ಅಥವಾ

ಎರಡು ಏಕಕೇಂದ್ರಿಯ ವೃತ್ತಗಳ ತ್ರಿಜ್ಯಗಳು 5 ಸೆ.ಮೀ. ಮತ್ತು 3 ಸೆ.ಮೀ. ಇರುವಂತೆ ರಚಿಸಿದೆ. ಚಿಕ್ಕ ವೃತ್ತಕ್ಕೆ ಸ್ಪರ್ಶಿಸುವಂತೆ ಎಳೆದ ದೊಡ್ಡ ವೃತ್ತದ ಜ್ಯಾದ ಉದ್ದವನ್ನು ಕಂಡುಹಿಡಿಯಿರಿ.

32. 5 ಸೆ.ಮೀ., 6 ಸೆ.ಮೀ. ಮತ್ತು 7 ಸೆ.ಮೀ. ಬಾಹುಗಳಿರುವ ಒಂದು ತ್ರಿಭುಜವನ್ನು ರಚಿಸಿ. ನಂತರ ಮತ್ತೊಂದು ತ್ರಿಭುಜವನ್ನು, ಅದರ ಪ್ರತಿಯೊಂದು ಬಾಹುವು ಮೊದಲು ರಚಿಸಿದ ತ್ರಿಭುಜದ ಅನುರೂಪ ಬಾಹುಗಳ $\frac{3}{5}$ ರಷ್ಟಿರುವಂತೆ ರಚಿಸಿ. 3

33. ಈ ಕೆಳಗಿನ ಆವೃತ್ತಿ ವಿತರಣಾ ಪಟ್ಟಿಯಲ್ಲಿರುವ ದತ್ತಾಂಶಗಳಿಗೆ ಬಹುಲಕವನ್ನು ಕಂಡುಹಿಡಿಯಿರಿ : 3

ಕುಟುಂಬದ ಗಾತ್ರ	1 — 3	3 — 5	5 — 7	7 — 9	9 — 11
ಕುಟುಂಬಗಳ ಸಂಖ್ಯೆ	7	8	2	2	1

ಅಥವಾ



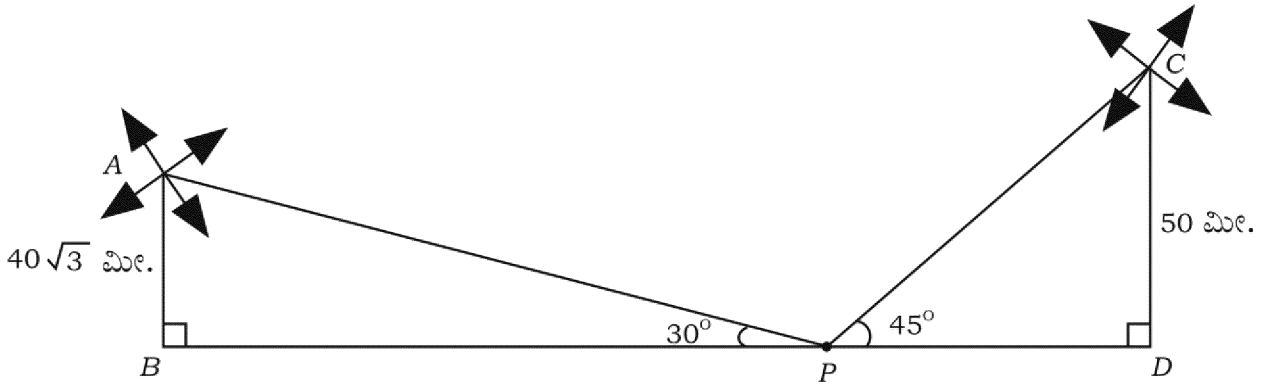
ಈ ಕೆಳಗಿನ ಆವೃತ್ತಿ ವಿತರಣಾ ಪಟ್ಟಿಯಲ್ಲಿರುವ ದತ್ತಾಂಶಗಳಿಗೆ ಮಧ್ಯಾಂಕವನ್ನು ಕಂಡುಹಿಡಿಯಿರಿ :

ತೂಕ (ಕೆ.ಜಿ.ಗಳಲ್ಲಿ)	15 — 20	20 — 25	25 — 30	30 — 35	35 — 40
ವಿದ್ಯಾರ್ಥಿಗಳ ಸಂಖ್ಯೆ	2	3	6	4	5

34. ಸಮತಟ್ಟಾದ ನೆಲದ ಮೇಲೆ $50\sqrt{3}$ ಮೀಟರ್ ಎತ್ತರದಲ್ಲಿರುವ ಒಂದು ನೇರ ಕಟ್ಟಡದ ಮೇಲಿನಿಂದ ಅದೇ ನೆಲದ ಮೇಲಿರುವ ಒಂದು ವಸ್ತುವನ್ನು ನೋಡಿದಾಗ ಉಂಟಾದ ಅವನತ ಕೋನವು 60° ಆಗಿರುತ್ತದೆ. ಹಾಗಾದರೆ ಕಟ್ಟಡದ ಬುಡದಿಂದ ವಸ್ತುವಿರುವ ದೂರವನ್ನು ಕಂಡುಹಿಡಿಯಿರಿ. 3

ಅಥವಾ

ಒಂದು ಜಮೀನಿನ ಎರಡೂ ಕಡೆ 50 ಮೀಟರ್ ಮತ್ತು $40\sqrt{3}$ ಮೀಟರ್ ಎತ್ತರವಿರುವ ಎರಡು ಗಾಳಿಯಂತ್ರಗಳಿವೆ. ಆ ಎರಡೂ ಗಾಳಿಯಂತ್ರಗಳ ನಡುವೆ ನಿಂತಿರುವ ಒಬ್ಬ ವ್ಯಕ್ತಿಯು ಅವುಗಳ ತುದಿಯನ್ನು ವೀಕ್ಷಿಸಿದಾಗ ಉಂಟಾದ ಉನ್ನತ ಕೋನವು 45° ಮತ್ತು 30° ಆಗಿರುತ್ತದೆ. ಹಾಗಾದರೆ ಈ ಗಾಳಿಯಂತ್ರಗಳ ನಡುವಿನ ದೂರವನ್ನು ಕಂಡುಹಿಡಿಯಿರಿ.



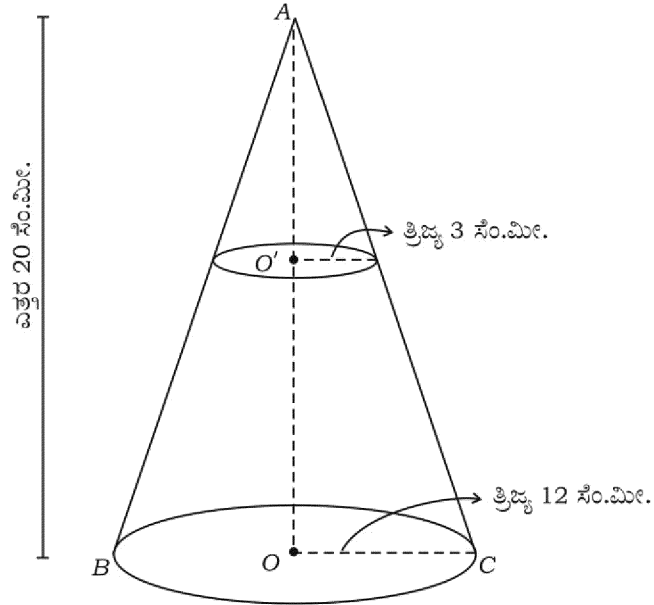
❁ (21)501-RR(A)

35. ಒಂದು ಗ್ರಾಮದ 100 ಹೊಲಗಳಲ್ಲಿ ಪ್ರತಿ ಹೆಕ್ಟೇರ್‌ಗೆ ಉತ್ಪಾದಿಸುವ ಗೋಧಿಯ ಇಳುವರಿಯನ್ನು ಕೆಳಗಿನ ಕೋಷ್ಟಕವು ನೀಡುತ್ತಿದೆ :

ಉತ್ಪಾದನಾ ಇಳುವರಿ ಕೆ.ಜಿ./ ಹೆಕ್ಟೇರ್‌ಗಳಲ್ಲಿ	50 - 55	55 - 60	60 - 65	65 - 70	70 - 75	75 - 80
ಹೊಲಗಳ ಸಂಖ್ಯೆ	2	8	12	24	38	16

ಈ ವಿತರಣೆಯನ್ನು 'ಅಧಿಕ ಇರುವ ವಿಧಾನದ' ವಿತರಣೆಯಾಗಿ ಬದಲಾಯಿಸಿ, ಇದರ ಓಜೀವ್ ಎಳೆಯಿರಿ. 3

36. 12 ಸೆಂ.ಮೀ. ಪಾದದ ತ್ರಿಜ್ಯ ಹಾಗೂ 20 ಸೆಂ.ಮೀ. ಎತ್ತರ ಇರುವ ಶಂಕುವಿನ ಮೇಲ್ಭಾಗದಿಂದ ಪಾದದ ತ್ರಿಜ್ಯ 3 ಸೆಂ.ಮೀ. ಇರುವಂತೆ ಒಂದು ಸಣ್ಣ ಶಂಕುವನ್ನು ಕತ್ತರಿಸಿ ತೆಗೆಯಲಾಗಿದೆ. ಹೀಗೆ ಉಂಟಾದ ಶಂಕುವಿನ ಭಿನ್ನಕದ ಘನಫಲವನ್ನು ಕಂಡುಹಿಡಿಯಿರಿ. 3



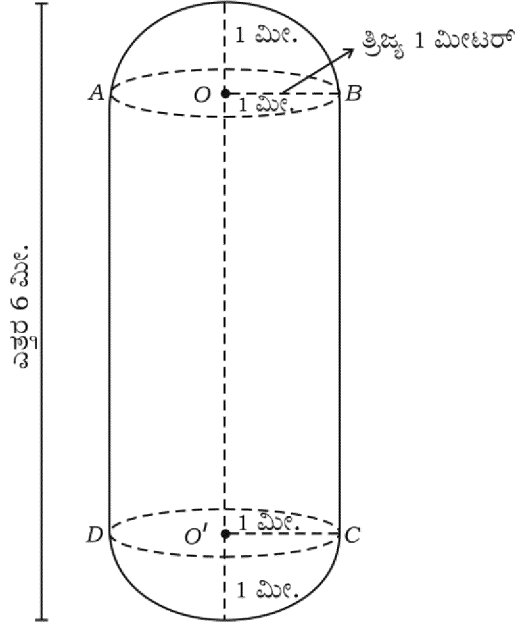
ಅಥವಾ



❁ (21)501-RR(A)

[Turn over

ಚಿತ್ರದಲ್ಲಿ ತೋರಿಸಿರುವಂತೆ ಸಿಲಿಂಡರಿನ ಎರಡೂ ಬದಿಗಳಲ್ಲಿ ಸಮತ್ರಿಜ್ಯವಿರುವ ಅರ್ಧಗೋಳಗಳನ್ನು ಜೋಡಿಸಿರುವ ಆಕಾರದಲ್ಲಿ ಒಂದು ಹಾಲಿನ ಟ್ಯಾಂಕನ್ನು ನಿರ್ಮಿಸಲಾಗಿದೆ. ಈ ಟ್ಯಾಂಕ್‌ನ ಒಟ್ಟು ಎತ್ತರ 6 ಮೀಟರ್ ಮತ್ತು ತ್ರಿಜ್ಯ 1 ಮೀಟರ್ ಆಗಿದ್ದರೆ. ಈ ಟ್ಯಾಂಕ್‌ನಲ್ಲಿ ತುಂಬಬಹುದಾದ ಹಾಲಿನ ಗರಿಷ್ಠ ಪ್ರಮಾಣವನ್ನು ಲೀಟರ್‌ಗಳಲ್ಲಿ ಕಂಡುಹಿಡಿಯಿರಿ. $\left(\pi = \frac{22}{7}\right)$



V. ಈ ಕೆಳಗಿನವುಗಳನ್ನು ಉತ್ತರಿಸಿ :

37. ಒಂದು ಸಮಾಂತರ ಶ್ರೇಣಿಯ 4ನೇ ಮತ್ತು 8ನೇ ಪದಗಳ ಮೊತ್ತ 24 ಹಾಗೂ 6ನೇ ಮತ್ತು 10ನೇ ಪದಗಳ ಮೊತ್ತವು 44 ಆದರೆ ಆ ಶ್ರೇಣಿಯ ಮೊದಲ ಮೂರು ಪದಗಳನ್ನು ಕಂಡುಹಿಡಿಯಿರಿ. 4
38. “ಒಂದು ಲಂಬಕೋನ ತ್ರಿಭುಜದಲ್ಲಿ ವಿಕರ್ಣದ ಮೇಲಿನ ವರ್ಗವು ಉಳಿದೆರಡು ಬಾಹುಗಳ ಮೇಲಿನ ವರ್ಗಗಳ ಮೊತ್ತಕ್ಕೆ ಸಮನಾಗಿರುತ್ತವೆ.” ಎಂದು ಸಾಧಿಸಿ. 4
39. ನಕ್ಷೆಯ ಕ್ರಮದಿಂದ ಬಿಡಿಸಿ : 4

$$2x + y = 8$$

$$x - y = 1$$



❖ (21)501-RR(A)

40. A ಮತ್ತು B ಎಂಬ ಇಬ್ಬರು ವಿದ್ಯಾರ್ಥಿಗಳ ವಯಸ್ಸು ಕ್ರಮವಾಗಿ 19 ವರ್ಷಗಳು ಮತ್ತು 15 ವರ್ಷಗಳಾಗಿವೆ. ಎಷ್ಟು ವರ್ಷಗಳ ನಂತರ ಇವರಿಬ್ಬರ ವಯಸ್ಸುಗಳ ಗುಣಲಬ್ಧವು 480 ಆಗುತ್ತದೆ ಎಂದು ಕಂಡುಹಿಡಿಯಿರಿ.

4

ಅಥವಾ

$(b - c)x^2 + (c - a)x + (a - b) = 0$ ಸಮೀಕರಣದ ಮೂಲಗಳು ಸಮನಾಗಿದ್ದರೆ

$2b = a + c$ ಎಂದು ಸಾಧಿಸಿ.

=====



81-K

12

CCE RR



❁ (21)501-RR(A)